



Забрањено је коришћење, односно повремено или стално умножавање базе података испитних питања или њених делова, било којим средствима и у било којој форми, у комерцијалне сврхе

ОСНОВЕ БЕЗБЕДНОСТИ САОБРАЋАЈА И ПОЈМОВИ

1.	Непосредно регулисање саобраћаја на путевима врше:	
	а) униформисани комунални полицајци, б) униформисани полицијски службеници, в) инспектори за друмски саобраћај.	1

2.	Контролу над возачима и возилима у саобраћају на путевима ради примене прописа о безбедности саобраћаја врше: <i>(Заокружити два тачна одговора)</i>	
	а) униформисани комунални полицајци, б) униформисани полицијски службеници, в) службеници надлежног органа за саобраћај, г) полицијски службеници у грађанском оделу.	1

3.	Непосредно регулисање саобраћаја у зони школе могу вршити: <i>(Заокружити два тачна одговора)</i>	
	а) школске саобраћајне патроле и саобраћајне патроле грађана, б) униформисани полицијски службеници, в) учитељи, наставници и професори, г) родитељи ученика, д) ученици.	1

4.	На делу пута на коме се изводе радови непосредно регулисање саобраћаја могу вршити: <i>(Заокружити два тачна одговора)</i>	
	а) радници извођача радова, односно управљача пута, б) униформисани комунални полицајци, в) униформисани полицијски службеници, г) службеници надлежног органа за саобраћај.	1

5.	Сваки учесник у саобраћају дужан је да се понаша: <i>(Заокружити два тачна одговора)</i>	
	а) на начин који ће му омогућити да што пре безбедно стигне на одредиште, б) на начин којим неће ометати, угрозити или повредити друге учеснике, в) на начин којим може ометати, али не и повредити или угрозити друге учеснике у саобраћају, г) тако да предузме све потребне мере ради избегавања или отклањања опасних ситуација насталих понашањем других учесника у саобраћају, ако себе или другог тиме не доводи у опасност.	1

6.	Делатност одржавања, поправљања или преправљања возила, може вршити:	
	а) физичко лице са одговарајућом школском спремом, б) правно лице и предузетник који поседују дозволу надлежног органа, в) свако физичко лице, правно лице или предузетник који поседују средства и простор за обављање тих послова.	1

7.	Свако физичко лице власник, односно корисник возила:	
	а) није дужан да обезбеди да његова возила у саобраћају на путевима буду технички исправна, б) дужан је да обезбеди да његова возила у саобраћају на путевима буду технички исправна, в) дужан је да обезбеди да његова возила у саобраћају на путевима буду технички исправна, само када лично управља возилом.	1

8.	У циљу безбедног учешћа деце у саобраћају породица има одговорност за:	
	а) стицање знања, вештина и навика деце, неопходних за безбедно учешће у саобраћају, б) доношење програма саобраћајног васпитања и образовања деце у предшколским и школским установама, в) формирање школских саобраћајних патрола и саобраћајних патрола грађана.	1

9.	У циљу безбедног учешћа деце у саобраћају породица има одговорност за:	
	а) доношење програма саобраћајног васпитања и образовања деце у предшколским и школским установама, б) унапређивање и учвршћивање позитивних ставова и понашања деце, значајних за безбедно учешће у саобраћају, в) формирање школских саобраћајних патрола и саобраћајних патрола грађана.	1

10.	Шта се од набројаног сматра саобраћајем? <i>(Заокружити три тачна одговора)</i>	
	а) Кретање возила тркачком стазом. б) Кретање возила улицом. в) Кретање трактора њивом. г) Кретање возила површинама намењеним за кретање само возила и лица којима је власник те површине то омогућио. д) Кретање пешака тротоаром. ђ) Кретање запрежног возила земљаним путем.	1

11.	Шта се од набројаног сматра саобраћајем? <i>(Заокружити три тачна одговора)</i>	
	а) Кретање возила полигоном за пробне вожње или спортске приредбе. б) Кретање бицикла бициклистичком стазом. в) Кретање мотоциклатора земљаним путем. г) Гурање возила по платоу намењеном кретању и окупљању лица. д) Кретање лица по тргу. ђ) Гурање бицикла пешачком стазом.	1



РЕПУБЛИКА СРБИЈА

МИНИСТАРСТВО УНУТРАШЊИХ ПОСЛОВА – УПРАВА САОБРАЋАЈНЕ ПОЛИЦИЈЕ





Забрањено је коришћење, односно повремено или стално умножавање базе података испитних питања или њених делова, било којим средствима и у било којој форми, у **комерцијалне сврхе**

12.	Возач је:	
	а) лице које на путу управља возилом, б) свако лице које има возачку дозволу, в) лице које по путу сопственом снагом гура или вуче возило.	1

13.	Пешак је лице које: (Заокружити три тачна одговора)	
	а) управља бициклом по путу, б) се креће по путу, в) сопственом снагом по путу вуче или гура возило, ручна колица, дечје превозно средство или колица за немоћна лица, г) управља мотокултиватором по путу, д) се креће по путу у дечјем превозном средству или у колицима за немоћна лица које покреће сопственом снагом или снагом мотора, ђ) управља запрежним возилом по путу.	1

14.	Пешак је лице које: (Заокружити два тачна одговора)	
	а) по путу клизи клизаљкама, скијама, санкама или се вози на котуралкама, скејтборду и сл, б) управља бициклом по путу, в) управља запрежним возилом по путу, г) гура бицикл по путу.	1

15.	Пешак је приказан на сликама број: (Заокружити два тачна одговора)	
	 1	 2
	 3	 4
	а) 1, б) 2, в) 3, г) 4.	1

16.	Означити неопходне услове који морају бити истовремено испуњени да би се сматрало да је возило заустављено: (Заокружити три тачна одговора)	
	а) прекид кретања возила на путу траје до три минута, б) возач није напустио возило, в) мотор возила је искључен, г) возач је изашао из возила али се од истог није удаљио више од 5 m, д) прекид кретања возила није наступио услед поступања по знаку или правилу, којим се регулише саобраћај, ђ) у возилу нема ниједног лица.	1

17.	Прекид кретања возила од два минута, при чему возач није напустио возило је:	
	а) паркирање, б) мимоилажење, в) заустављање.	1

18.	Прекид кретања возила од два минута, при чему је возач напустио возило је:	
	а) мимоилажење, б) заустављање, в) паркирање.	1

19.	Возило приказано на слици је:	
		
	а) паркирано, б) заустављено.	1

20.	Пролажење учесника у саобраћају поред другог учесника у саобраћају који долази из супротног смера је:	
	а) мимоилажење, б) обилажење, в) претицање, г) пропуштање.	1

21.	У ситуацији приказаној на слици пролажење возила бр. 1 поред возила бр. 2 које се креће из супротног смера је:	
		
	а) мимоилажење, б) обилажење, в) претицање, г) пропуштање.	1

22.	Пролажење учесника у саобраћају поред другог учесника у саобраћају који се креће коловозом у истом смеру је:	
	а) мимоилажење, б) обилажење, в) претицање, г) пропуштање.	1



РЕПУБЛИКА СРБИЈА

МИНИСТАРСТВО УНУТРАШЊИХ ПОСЛОВА – УПРАВА САОБРАЋАЈНЕ ПОЛИЦИЈЕ





Забрањено је коришћење, односно повремено или стално умножавање базе података испитних питања или њених делова, било којим средствима и у било којој форми, у **комерцијалне сврхе**

23. У ситуацији приказаној на слици пролажење путничког возила поред теретног возила које се креће у истом смеру је:



а) мимоилажење,
б) обилажење,
в) претицање,
г) пропуштање.

1

24. Пролажење учесника у саобраћају поред другог учесника у саобраћају који се не помера, објекта или препреке на коловозу је:

а) мимоилажење,
б) обилажење,
в) претицање,
г) пропуштање.

1


25. У ситуацији приказаној на слици пролажење теретног возила поред заустављеног путничког возила је:



а) мимоилажење,
б) обилажење,
в) претицање,
г) пропуштање.

1

26. Радња коју предузимате у ситуацији приказаној на слици пролажењем возила поред паркираног возила је:



а) мимоилажење,
б) обилажење,
в) претицање,
г) пропуштање.

1

27. Одстојање на коме учесник у саобраћају може јасно видети коловоз је:

а) видљивост,
б) прегледност,
в) дужина прегледности.

1

28. Пролажењем возила поред препреке на путу, у ситуацији приказаној на слици, вршите:



а) мимилажење,
б) обилажење,
в) претицање,

1

29. Пролажењем возила поред препреке на путу, у ситуацији приказаној на слици, вршите:



а) мимилажење,
б) обилажење,
в) претицање,

1

30. Радња коју учесник у саобраћају предузима како би омогућио кретање другог учесника у саобраћају који има првенство пролаза, тако да не дође до промене дотадашњег начина кретања учесника у саобраћају који има првенство пролаза, односно до њиховог контакта је:

а) мимоилажење,
б) обилажење,
в) претицање,
г) пропуштање.

1

31. Услови смањене видљивости на путу изван насеља су услови у којима је видљивост мања од:

а) 100 m,
б) 150 m,
в) 200 m,
г) 250 m.

1



РЕПУБЛИКА СРБИЈА

МИНИСТАРСТВО УНУТРАШЊИХ ПОСЛОВА – УПРАВА САОБРАЋАЈНЕ ПОЛИЦИЈЕ





Забрањено је коришћење, односно повремено или стално умножавање базе података испитних питања или њених делова, било којим средствима и у било којој форми, у **комерцијалне сврхе**

32. У ситуацији приказаној на слици радња коју сте дужни да предузмете у односу на возила из супротног смера је



- а) обилажење,
- б) претицање,
- в) пропуштање.

1

33. Који од набројаних услова морају бити истовремено испуњени да би се сматрало да је на путу колона возила:

(Заокружити два тачна одговора)

- а) низ од најмање три возила,
- б) низ од најмање два возила,
- в) возила су заустављена у истој саобраћајној траци,
- г) возила су паркирана у истој саобраћајној траци.

1

34. Који од набројаних услова морају бити истовремено испуњени да би се сматрало да је на путу колона возила:

(Заокружити три тачна одговора)

- а) низ од најмање три возила,
- б) низ од најмање два возила,
- в) возила се крећу једно иза другог истом саобраћајном траком у истом смеру,
- г) начин кретања возила је међусобно условљен и између њих не може без ометања ући друго возило,
- д) возила су паркирана у истој саобраћајној траци,
- ђ) возила се крећу на растојању које омогућава улазак другог без ометања осталих возила.

1

35. Незгода у којој је повређено лице које је управљало трактором при извођењу радова на њиви:

- а) је саобраћајна незгода јер је повређен возач,
- б) није саобраћајна незгода јер се није догодила на путу,
- в) није саобраћајна незгода јер нема погинулих лица,
- г) је саобраћајна незгода уколико је трактор регистрован.

1

36. У ситуацији приказаној на слици паркирана возила:



- а) су колона возила,
- б) нису колона возила.

1

37. У ситуацији приказаној на слици заустављена возила:



- а) су колона возила,
- б) нису колона возила.

38. Услови смањене видљивости на путу у насељу су услови у којима је видљивост мања од:

- а) 100 m,
- б) 150 m,
- в) 200 m,
- г) 250 m.

1

39. Одстојање на коме учесник у саобраћају, с обзиром на физичке препреке, може у условима нормалне видљивости јасно видети другог учесника у саобраћају, односно другу могућу препреку на путу, је:

- а) видљивост,
- б) прегледност,
- в) дужина видљивости.

1



РЕПУБЛИКА СРБИЈА

МИНИСТАРСТВО УНУТРАШЊИХ ПОСЛОВА – УПРАВА САОБРАЋАЈНЕ ПОЛИЦИЈЕ





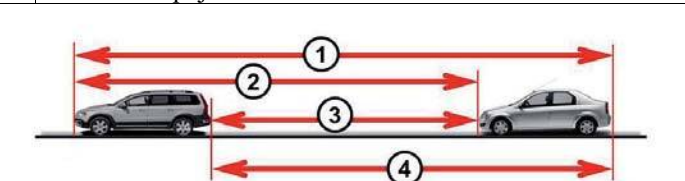
Забрањено је коришћење, односно повремено или стално умножавање базе података испитних питања или њених делова, било којим средствима и у било којој форми, у **комерцијалне сврхе**

40.	Простор без седишта са доступним елементима за монтажу седишта у возилу представља:	1
	а) место за седење само ако има и сигурносне појасеве, б) место за седење само ако има и доступне прикључке сигурносних појасева, в) место за седење.	

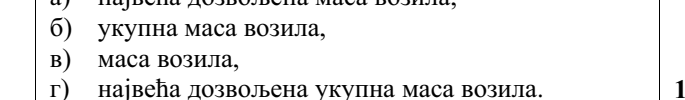
41.	Незгода у којој је порушена дворишна ограда при излетању возила са пута:	1
	а) је саобраћајна незгода јер је начињена материјална штета, б) није саобраћајна незгода јер у незгоди учествовало само једно возило, в) није саобраћајна незгода јер нема погинулих или повређених лица, г) није саобраћајна незгода јер је материјална штета начињена ван пута.	

42.	Незгода у којој је начињена материјална штета на возилу и повређено лице које је управљало спортским аутомобилом на тркачкој стази за возила:	1
	а) је саобраћајна незгода јер је повређен возач и начињена материјална штета, б) није саобраћајна незгода јер се није догодила на путу, в) није саобраћајна незгода јер нема погинулих лица, г) није саобраћајна незгода јер у незгоди учествовало само једно возило.	

43.	Означена удаљеност између возила приказаних на слици је:	1
		
	а) растојање, б) одстојање, в) предњи, односно задњи препуст возила.	

44.	Одстојање између возила приказаних на слици је означено бројем:	1
		
	а) 1, б) 2, в) 3, г) 4.	

45.	Маса празног возила са свим пуних резервоарима и прописаном опремом је:	1
	а) највећа дозвољена маса возила, б) укупна маса возила, в) маса возила, г) највећа дозвољена укупна маса возила.	

46.	Означена удаљеност између возила приказаних на слици је:	1
		
	а) растојање, б) одстојање, в) најмања дозвољена бочна удаљеност између возила.	

47.	Растојање између возила приказаних на слици је означено бројем:	1
		
	а) 1, б) 2, в) 3, г) 4.	

48.	Одбачено возило је возило које: (Заокружити два тачна одговора)	1
	а) је видно запуштено и налази се ван пута, б) је видно запуштено и налази се на путу, в) није регистровано, г) је регистровано.	

49.	Простор без седишта са доступним прикључцима сигурносних појасева у возилу представља:	1
	а) место за седење само ако има и доступне елементе за монтажу седишта, б) место за седење само ако има и доступне елементе за монтажу седишта и сигурносне појасеве, в) место за седење.	

50.	Средња (просечна) брзина кретања возила на деоници дужине 300 km, коју возило пређе за 2 сата, је:	1
	а) 100 km/h, б) 120 km/h, в) 150 km/h, г) 200 km/h.	

51.	Маса којом се возило може највише оптеретити према декларацији произвођача је:	1
	а) носивост возила, б) највећа дозвољена маса возила, в) укупна маса возила, г) највећа дозвољена укупна маса возила.	



РЕПУБЛИКА СРБИЈА

МИНИСТАРСТВО УНУТРАШЊИХ ПОСЛОВА – УПРАВА САОБРАЋАЈНЕ ПОЛИЦИЈЕ





Забрањено је коришћење, односно повремено или стално умножавање базе података испитних питања или њених делова, било којим средствима и у било којој форми, у **комерцијалне сврхе**

52.	Збир масе возила и носивости возила је:	
	а) највећа дозвољена укупна маса возила, б) укупна маса возила, в) осовинско оптерећење возила, г) највећа дозвољена маса возила.	1

53.	Маса возила и маса којом је возило оптерећено (лица и терет) је:	
	а) највећа дозвољена укупна маса возила, б) укупна маса возила, в) осовинско оптерећење возила, г) највећа дозвољена маса возила.	1

54.	Збир највећих дозвољених маса возила која чине скуп, умањен за вертикално оптерећење које возило прима од прикључног возила је:	
	а) укупна маса скупа возила, б) највећа дозвољена укупна маса скупа возила, в) осовинско оптерећење скупа возила, г) највећа дозвољена маса скупа возила.	1

55.	Највећа маса оптерећеног возила, односно скупа возила, коју је надлежни државни орган прописао као највећу дозвољену је:	
	а) највећа дозвољена укупна маса возила, б) осовинско оптерећење возила, в) највећа дозвољена маса возила, г) укупна маса скупа возила.	1

56.	Маса оптерећеног скупа возила (лица и терет) је:	
	а) укупна маса скупа возила, б) највећа дозвољена укупна маса скупа возила, в) осовинско оптерећење скупа возила, г) највећа дозвољена маса скупа возила.	1

57.	Део укупне масе возила у хоризонталном положају којим његова осовина оптерећује коловоз у стању мировања возила је:	
	а) маса возила, б) осовинско оптерећење, в) носивост возила, г) највећа дозвољена маса возила.	1

58.	Возило је регистровано ако испуњава истовремено следеће услове: (Заокружити три тачна одговора)	
	а) уписано је у јединствени регистар возила, б) за њега су издате таблице за привремено означавање, в) за њега је издата саобраћајна дозвола, г) за њега су издате регистарске таблице и регистрациона налепница, д) учествује у саобраћају на путу.	1

59.	Јавна исправа (решење) која са регистрационом налепницом даје право на коришћење возила у саобраћају за време важења регистрационе налепнице је:	
	а) регистарска таблица, б) саобраћајна дозвола, в) возачка дозвола.	1

60.	Ознака на возилу којом се означава да је возило уписано у јединствени регистар возила је:	
	а) регистарска таблица, б) таблица за привремено означавање, в) саобраћајна дозвола.	1

61.	Ознака на возилу којом се одређује да возило може да учествује у саобраћају у одређеном временском року је:	
	а) регистарска таблица, б) регистрациона налепница, в) саобраћајна дозвола.	1

62.	Јавна исправа (решење) надлежног органа којим се неком лицу даје право да у саобраћају на путу управља возилом одређене категорије на одређено време је:	
	а) уверење о положеном возачком испиту, б) саобраћајна дозвола, в) возачка дозвола.	1

63.	Довођење возила, односно уређаја и склопова возила у исправно стање је:	
	а) преправка возила, б) поправка возила, в) технички преглед возила.	1

64.	Промена конструктивних карактеристика возила којим се мења намена или врста возила или декларисане техничке карактеристике возила или декларисане карактеристике уређаја и склопова возила је:	
	а) преправка возила, б) поправка возила, в) одржавање возила.	1

65.	Возило је приказано на сликама означеним бројевима:	
	  	
	  	
	а) 1, 2, 4 и 5, б) 1, 2, 3 и 6, в) 1, 3, 4 и 6, г) 2, 3, 5 и 6.	1

66.	Возило је бицикл ако истовремено испуњава следеће услове: (Заокружити два тачна одговора)	
	а) његова највећа конструктивна брзина, без обзира на начин преноса, не прелази 45 km/h, б) његова највећа трајна номинална снага не прелази 4 kW, в) има најмање два точка, г) има два точка, д) покреће се снагом возача, односно путника, која се помоћу педала или ручица преноси на точак, односно точкове.	1



РЕПУБЛИКА СРБИЈА

МИНИСТАРСТВО УНУТРАШЊИХ ПОСЛОВА – УПРАВА САОБРАЋАЈНЕ ПОЛИЦИЈЕ





Забрањено је коришћење, односно повремено или стално умножавање базе података испитних питања или њених делова, било којим средствима и у било којој форми, у **комерцијалне сврхе**

67. Бицикл је приказан на сликама означеним бројевима:
(Заокружити два тачна одговора)

 1	 2
 3	 4

a) 1, б) 2, в) 3, г) 4. **1**

68. Моторно возило је приказано на сликама означеним бројевима:

 1	 2
 3	 4
 5	 6

a) 1, 4 и 6,
б) 2, 5 и 6,
в) 2, 3 и 5,
г) 3, 5 и 6. **1**

69. Моторно возило, које има мотор са унутрашњим сагоревањем са погоном на бензин, је мопед ако истовремено испуњава следеће услове:
(Заокружити три тачна одговора)

а) његова највећа конструктивна брзина, без обзира на начин преноса, не прелази 45 km/h,
б) његова највећа трајна номинална снага не прелази 4 kW,
в) има најмање два точка,
г) има два точка,
д) радна запремина његовог мотора не прелази 50 cm³,
ђ) радна запремина његовог мотора не прелази 125 cm³. **1**

70. Моторно возило, са електричним погоном, је мопед ако истовремено испуњава следеће услове:
(Заокружити три тачна одговора)

а) његова највећа конструктивна брзина, без обзира на начин преноса, не прелази 45 km/h,
б) његова највећа трајна номинална снага не прелази 4 kW,
в) има најмање два точка,
г) има два точка,
д) радна запремина мотора не прелази 50 cm³,
ђ) његова највећа трајна номинална снага прелази 4 kW. **1**

71. Моторно возило, које има мотор са унутрашњим сагоревањем са погоном који није на бензин, је мопед ако истовремено испуњава следеће услове:
(Заокружити три тачна одговора)

а) његова највећа конструктивна брзина, без обзира на начин преноса, не прелази 45 km/h,
б) његова највећа трајна номинална снага не прелази 4 kW,
в) има најмање два точка,
г) има два точка,
д) радна запремина његовог мотора не прелази 50 cm³,
ђ) радна запремина његовог мотора не прелази 125 cm³. **1**

72. Моторно возило чија је највећа конструктивна брзина 40 km/h и које има два точка и мотор са унутрашњим сагоревањем са погоном на бензин, чија је радна запремина 45 cm³, а највећа трајна ефективна снага 5 kW, је:

а) мотоцикл,
б) мопед,
в) бицикл,
г) лаки трицикл. **1**

73. Моторно возило чија је највећа конструктивна брзина 40 km/h и које има два точка и мотор са унутрашњим сагоревањем са погоном који није на бензин, чија је радна запремина 45 cm³, а највећа трајна ефективна снага 5 kW, је:

а) мотоцикл,
б) мопед,
в) бицикл,
г) лаки трицикл. **1**

74. Моторно возило са електричним погоном, највеће трајне номиналне снаге 4 kW, највеће конструктивне брзине 40 km/h, које има два точка, је:

а) мотоцикл,
б) мопед,
в) бицикл,
г) лаки трицикл. **1**



РЕПУБЛИКА СРБИЈА

МИНИСТАРСТВО УНУТРАШЊИХ ПОСЛОВА – УПРАВА САОБРАЋАЈНЕ ПОЛИЦИЈЕ





Забрањено је коришћење, односно повремено или стално умножавање базе података испитних питања или њених делова, било којим средствима и у било којој форми, у **комерцијалне сврхе**

75.	Моторно возило, које има мотор са унутрашњим сагоревањем са погоном на бензин, је лаки трицикл ако истовремено испуњава следеће услове: (<i>Заокружити три тачна одговора</i>)	
	а) његова највећа конструктивна брзина, без обзира на начин преноса, не прелази 45 km/h, б) његова највећа трајна ефективна снага не прелази 4 kW, в) има најмање три точка, г) има три точка, д) радна запремина његовог мотора не прелази 50 cm ³ , ђ) радна запремина његовог мотора не прелази 125 cm ³ .	1

76.	Моторно возило, које има мотор са унутрашњим сагоревањем са погоном који није на бензин, је лаки трицикл ако истовремено испуњава следеће услове: (<i>Заокружити три тачна одговора</i>)	
	а) његова највећа конструктивна брзина, без обзира на начин преноса, не прелази 45 km/h, б) његова највећа трајна ефективна снага не прелази 4 kW, в) има најмање три точка, г) има три точка, д) радна запремина његовог мотора не прелази 50 cm ³ , ђ) радна запремина његовог мотора не прелази 125 cm ³ .	1

77.	Моторно возило, са електричним погоном, је лаки трицикл ако истовремено испуњава следеће услове: (<i>Заокружити три тачна одговора</i>)	
	а) његова највећа конструктивна брзина, без обзира на начин преноса, не прелази 45 km/h, б) његова највећа трајна номинална снага не прелази 4 kW, в) има најмање три точка, г) има три точка, д) радна запремина мотора не прелази 50 cm ³ , ђ) његова највећа трајна номинална снага прелази 4 kW.	1

78.	Моторно возило чија је највећа конструктивна брзина 40 km/h и које има три точка и мотор са унутрашњим сагоревањем са погоном на бензин, чија је радна запремина 45 cm ³ , а највећа трајна ефективна снага 4 kW, је:	
	а) мотоцикл, б) мопед, в) бицикл, г) лаки трицикл.	1

79.	Моторно возило чија је највећа конструктивна брзина 40 km/h и које има три точка и мотор са унутрашњим сагоревањем са погоном који није на бензин, чија је радна запремина 55 cm ³ , а највећа трајна ефективна снага 4 kW, је:	
	а) мотоцикл, б) мопед, в) бицикл, г) лаки трицикл.	1

80.	Моторно возило са електричним погоном, највеће трајне номиналне снага 4 kW, највеће конструктивне брзине 40 km/h и које има три точка, је:	
	а) мотоцикл, б) мопед, в) бицикл, г) лаки трицикл.	1

81.	Моторно возило, које има мотор са унутрашњим сагоревањем са погоном на бензин, је мотоцикл ако истовремено испуњава најмање следеће услове: (<i>Заокружити два тачна одговора</i>)	
	а) његова највећа конструктивна брзина, без обзира на начин преноса, прелази 45 km/h, б) његова највећа трајна ефективна снага не прелази 4 kW, в) има најмање два точка, г) има два или три точка асиметрично распоређена у односу на средњу подужну равн возила, д) радна запремина његовог мотора не прелази 50 cm ³ .	1

82.	Моторно возило, које има мотор са унутрашњим сагоревањем са погоном који није на бензин, је мотоцикл ако истовремено испуњава најмање следеће услове: (<i>Заокружити два тачна одговора</i>)	
	а) његова највећа конструктивна брзина, без обзира на начин преноса, прелази 45 km/h, б) његова највећа трајна ефективна снага не прелази 4 kW, в) има најмање два точка, г) има два или три точка асиметрично распоређена у односу на средњу подужну равн возила, д) радна запремина његовог мотора не прелази 50 cm ³ .	1

83.	Моторно возило, са електричним погоном, је мотоцикл ако истовремено испуњава најмање следеће услове: (<i>Заокружити два тачна одговора</i>)	
	а) његова највећа конструктивна брзина, без обзира на начин преноса, не прелази 45 km/h, б) његова највећа трајна номинална снага не прелази 4 kW, в) има најмање два точка, г) има два или три точка асиметрично распоређена у односу на средњу подужну равн возила, д) радна запремина мотора прелази 50 cm ³ , ђ) његова највећа трајна номинална снага прелази 4 kW.	1

84.	Моторно возило чија је највећа конструктивна брзина 50 km/h и које има три точка асиметрично распоређена у односу на средњу подужну равн возила и мотор са унутрашњим сагоревањем са погоном на бензин чија је највећа трајна ефективна снага 4 kW, је:	
	а) мотоцикл, б) мопед, в) тешки трицикл, г) лаки трицикл.	1



РЕПУБЛИКА СРБИЈА

МИНИСТАРСТВО УНУТРАШЊИХ ПОСЛОВА – УПРАВА САОБРАЋАЈНЕ ПОЛИЦИЈЕ





Забрањено је коришћење, односно повремено или стално умножавање базе података испитних питања или њених делова, било којим средствима и у било којој форми, у **комерцијалне сврхе**

85.	Моторно возило чија је највећа конструктивна брзина 50 km/h и које има три точка асиметрично распоређена у односу на средњу подужну раван возила и мотор са унутрашњим сагоревањем са погоном који није на бензин чија је радна запремина 45 cm ³ , је:	
	а) мотоцикл, б) мопед, в) тешки трицикл, г) лаки трицикл.	1

86.	Моторно возило са електричним погоном, највеће трајне номиналне снаге 5 kW, највеће конструктивне брзине 45 km/h и које има три точка асиметрично распоређена у односу на средњу подужну раван возила, је:	
	а) мотоцикл, б) мопед, в) тешки трицикл, г) лаки трицикл.	1

87.	Моторно возило, које има мотор са унутрашњим сагоревањем са погоном на бензин, је тешки трицикл ако истовремено испуњава најмање следеће услове: <i>(Заокружити два тачна одговора)</i>	
	а) његова највећа конструктивна брзина, без обзира на начин преноса, прелази 45 km/h, б) његова највећа трајна ефективна снага не прелази 4 kW, в) има три точка, симетрично распоређених у односу на средњу подужну раван возила, г) радна запремина мотора не прелази 50 cm ³ , д) његова највећа трајна ефективна снага прелази 4 kW.	1

88.	Моторно возило, које има мотор са унутрашњим сагоревањем са погоном који није на бензин, је тешки трицикл ако истовремено испуњава следеће услове: <i>(Заокружити три тачна одговора)</i>	
	а) његова највећа конструктивна брзина, без обзира на начин преноса, прелази 45 km/h, б) његова највећа трајна ефективна снага прелази 4 kW, в) има најмање три точка, г) има три точка, симетрично распоређених у односу на средњу подужну раван возила, д) радна запремина његовог мотора прелази 50 cm ³ , ђ) радна запремина његовог мотора не прелази 125 cm ³ .	1

89.	Моторно возило са електричним погоном, највеће трајне номиналне снаге 5 kW, највеће конструктивне брзине 50 km/h и које има три точка симетрично распоређена у односу на средњу подужну раван возила, је:	
	а) мотоцикл, б) мопед, в) тешки трицикл, г) лаки трицикл.	1

90.	Моторно возило, са електричним погоном, је тешки трицикл ако истовремено испуњава следеће услове: <i>(Заокружити три тачна одговора)</i>	
	а) његова највећа конструктивна брзина, без обзира на начин преноса, прелази 45 km/h, б) његова највећа трајна номинална снага прелази 4 kW, в) има најмање три точка, г) има три точка, симетрично распоређених у односу на средњу подужну раван возила, д) радна запремина мотора прелази 50 cm ³ , ђ) његова највећа трајна номинална снага не прелази 4 kW.	1

91.	Моторно возило чија је највећа конструктивна брзина 50 km/h и које има три точка симетрично распоређена у односу на средњу подужну раван возила и мотор са унутрашњим сагоревањем са погоном на бензин чија је највећа трајна ефективна снага 5 kW, је:	
	а) мотоцикл, б) мопед, в) тешки трицикл, г) лаки трицикл.	1

92.	Моторно возило чија је највећа конструктивна брзина 50 km/h и које има три точка симетрично распоређена у односу на средњу подужну раван возила и мотор са унутрашњим сагоревањем са погоном који није на бензин чија је највећа трајна ефективна снага 5 kW, је:	
	а) мотоцикл, б) мопед, в) тешки трицикл, г) лаки трицикл.	1

93.	Моторно возило, које има мотор са унутрашњим сагоревањем са погоном на бензин, је лаки четвороцикл ако истовремено испуњава најмање следеће услове: <i>(Заокружити три тачна одговора)</i>	
	а) његова највећа конструктивна брзина, без обзира на начин преноса, не прелази 45 km/h, б) његова највећа трајна ефективна снага не прелази 4 kW, в) има четири точка и његова маса не прелази 350 kg, г) радна запремина мотора не прелази 50 cm ³ , д) његова највећа трајна ефективна снага прелази 4 kW.	1

94.	Моторно возило намењено за превоз терета, које има мотор са унутрашњим сагоревањем са погоном који није на бензин, четири точка, највећу ефективну снагу 12 kW и чија је маса 500 kg, је:	
	а) лаки четвороцикл, б) тешки четвороцикл, в) путничко возило, г) теретно возило.	1



РЕПУБЛИКА СРБИЈА

МИНИСТАРСТВО УНУТРАШЊИХ ПОСЛОВА – УПРАВА САОБРАЋАЈНЕ ПОЛИЦИЈЕ





Забрањено је коришћење, односно повремено или стално умножавање базе података испитних питања или њених делова, било којим средствима и у било којој форми, у **комерцијалне сврхе**

95.	Моторно возило, које има мотор са унутрашњим сагоревањем са погоном који није на бензин, је лаки четвороцикл ако истовремено испуњава следеће услове: (<i>Заокружити три тачна одговора</i>)	
	а) његова највећа конструктивна брзина, без обзира на начин преноса, не прелази 45 km/h, б) његова највећа трајна ефективна снага не прелази 4 kW, в) има четири точка и његова маса не прелази 350 kg, г) радна запремина његовог мотора не прелази 50 cm ³ , д) његова највећа трајна ефективна снага прелази 4 kW.	1

96.	Моторно возило, са електричним погоном, је лаки четвороцикл ако истовремено испуњава следеће услове: (<i>Заокружити три тачна одговора</i>)	
	а) његова највећа конструктивна брзина, без обзира на начин преноса, не прелази 45 km/h, б) његова највећа трајна номинална снага не прелази 4 kW, в) има четири точка и његова маса не прелази 350 kg, што не укључује масу батерија возила, г) радна запремина мотора прелази 50 cm ³ , д) његова највећа трајна номинална снага прелази 4 kW.	1

97.	Моторно возило чија је највећа конструктивна брзина 40 km/h и које има четири точка, масу 300 kg и мотор са унутрашњим сагоревањем са погоном на бензин чија је радна запремина 45 cm ³ , а највећа трајна ефективна снага 5 kW, је:	
	а) мотоцикл, б) мопед, в) лаки четвороцикл, г) тешки четвороцикл.	1

98.	Моторно возило чија је највећа конструктивна брзина 40 km/h и које има четири точка, масу 300 kg и мотор са унутрашњим сагоревањем са погоном који није на бензин чија је радна запремина 55 cm ³ а највећа трајна ефективна снага 4 kW, је:	
	а) мотоцикл, б) мопед, в) лаки четвороцикл, г) тешки четвороцикл.	1

99.	Моторно возило са електричним погоном, највеће трајне номиналне снаге 4 kW, највеће конструктивне брзине 40 km/h и које има четири точка и масу 300 kg, је:	
	а) мотоцикл, б) мопед, в) лаки четвороцикл, г) тешки четвороцикл.	1

100	Моторно возило које има мотор са унутрашњим сагоревањем са погоном на бензин, четири точка, највећу ефективну снагу 4 kW и чија је маса 400 kg, је:	
	а) лаки четвороцикл, б) тешки четвороцикл, в) путничко возило, г) мопед.	1

101	Моторно возило, намењено за превоз терета, са електричним погоном, са четири точка, највеће номиналне снаге 4 kW и чија маса износи 500 kg, је:	
	а) лаки четвороцикл, б) тешки четвороцикл, в) путничко возило, г) теретно возило.	1

102	Моторно возило које има мотор са унутрашњим сагоревањем са погоном на бензин, четири точка, највећу ефективну снагу 12 kW, чија је маса 400 kg и које има 5 места за седење укључујући и место за седење возача, је:	
	а) тешки четвороцикл, б) путничко возило, в) лаки четвороцикл.	1

103	Моторно возило које има мотор са унутрашњим сагоревањем са погоном који није на бензин, четири точка, највећу ефективну снагу 12 kW, чија је маса 380 kg и које има 5 места за седење укључујући и место за седење возача, је:	
	а) тешки четвороцикл, б) путничко возило, в) лаки четвороцикл.	1

104	Моторно возило, са електричним погоном, четири точка, највеће номиналне снаге 10 kW, чија маса 400 kg и које има 5 места за седење укључујући и место за седење возача, је:	
	а) тешки четвороцикл, б) путничко возило, в) лаки четвороцикл.	1

105	Моторно возило које има мотор са унутрашњим сагоревањем са погоном на бензин, четири точка, највећу ефективну снагу 22 kW, чија је маса 500 kg и које има 5 места за седење укључујући и место за седење возача, је:	
	а) тешки четвороцикл, б) путничко возило, в) аутобус.	1

106	Моторно возило које има мотор са унутрашњим сагоревањем са погоном који није на бензин, четири точка, највећу ефективну снагу 20 kW, чија је маса 500 kg и које има 5 места за седење укључујући и место за седење возача, је:	
	а) тешки четвороцикл, б) путничко возило, в) аутобус.	1



РЕПУБЛИКА СРБИЈА

МИНИСТАРСТВО УНУТРАШЊИХ ПОСЛОВА – УПРАВА САОБРАЋАЈНЕ ПОЛИЦИЈЕ

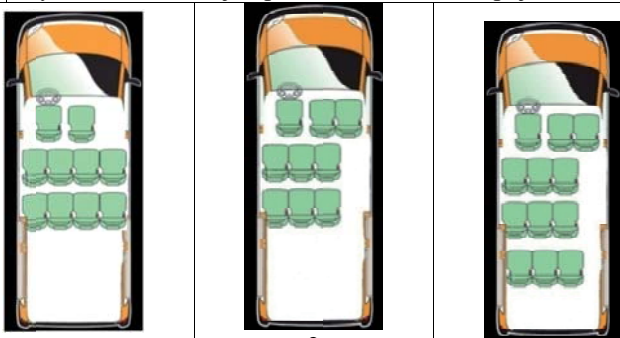




Забрањено је коришћење, односно повремено или стално умножавање базе података испитних питања или њених делова, било којим средствима и у било којој форми, у **комерцијалне сврхе**

107	Моторно возило које има мотор са унутрашњим сагоревањем са погоном који није на бензин, четири точка, највећу ефективну снагу 120 kW, чија је маса 2.000 kg и које има 8 места за седење укључујући и место за седење возача, је:	
	а) тешки четвороцикл, б) путничко возило, в) аутобус.	1

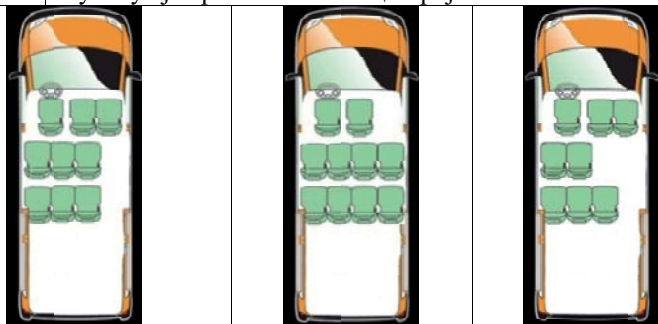
108	Моторно возило, са електричним погоном, четири точка, највеће номиналне снаге 18 kW, чија је маса 500 kg и које има 5 места за седење укључујући и место за седење возача, је:	
	а) тешки четвороцикл, б) путничко возило, в) аутобус.	1

109	Путничко возило је приказано на слици број:	
		
	а) 1, б) 2, в) 3.	1

110	Моторно возило које има мотор са унутрашњим сагоревањем са погоном на бензин, четири точка, највећу ефективну снагу 120 kW, чија је маса 2.000 kg и које има 10 места за седење укључујући и место за седење возача, је:	
	а) туристички воз, б) путничко возило, в) аутобус.	1

111	Моторно возило које има мотор са унутрашњим сагоревањем са погоном који није на бензин, четири точка, највећу ефективну снагу 120 kW, чија је маса 2.000 kg и које има 16 места за седење укључујући и место за седење возача, је:	
	а) туристички воз, б) путничко возило, в) аутобус.	1

112	Моторно возило, са електричним погоном, четири точка, највеће номиналне снаге 120 kW, чија је маса 2.000 kg и које има 20 места за седење укључујући и место за седење возача, је:	
	а) туристички воз, б) путничко возило, в) аутобус.	1

113	Аутобус је приказан на слици број:	
		
	а) 1, б) 2, в) 3.	1

114	Тролејбус је приказан на слици број:	
		
	а) 1, б) 2, в) 3.	1

115	Моторно возило намењено за вршење рада, које има мотор са унутрашњим сагоревањем са погоном на бензин, четири точка, највећу ефективну снагу 20 kW, чија је маса 580 kg и највећу конструктивну брзину кретања 50 km/h, је:	
	а) теретно возило, б) мотокултиватор, в) радна машина.	1

116	Моторно возило намењено за вршење рада, које има мотор са унутрашњим сагоревањем са погоном који није на бензин, четири точка, највећу ефективну снагу 120 kW, чија је маса 1.500 kg и највећу конструктивну брзину кретања 50 km/h, је:	
	а) теретно возило, б) мотокултиватор, в) радна машина.	1

117	Моторно возило, са електричним погоном, намењено за вршење рада, четири точка, највеће номиналне снагу 120 kW, чија је маса 1.500 kg и највећу конструктивну брзину кретања 50 km/h, је:	
	а) теретно возило, б) мотокултиватор, в) радна машина.	1

118	Моторно возило, са електричним погоном, намењено за извођење одређених радова, четири точка, највеће номиналне снаге 120 kW, чија је маса 1.500 kg и највећа конструктивна брзина кретања 40 km/h, је:	
	а) теретно возило, б) мотокултиватор, в) радна машина.	1



РЕПУБЛИКА СРБИЈА

МИНИСТАРСТВО УНУТРАШЊИХ ПОСЛОВА – УПРАВА САОБРАЋАЈНЕ ПОЛИЦИЈЕ





Забрањено је коришћење, односно повремено или стално умножавање базе података испитних питања или њених делова, било којим средствима и у било којој форми, у **комерцијалне сврхе**

119 Теретно возило је приказано на слици број:

				
1	2			
				
3	4			
a) 1,	б) 2,	в) 3,	г) 4.	1

120 Скуп возила је приказан на слици број:

				
1	2			
				
3	4			
a) 1,	б) 2,	в) 3,	г) 4.	1

121 Туристички воз је приказан на слици број:

				
1	2			
				
3	4			
a) 1,	б) 2,	в) 3,	г) 4.	1

122 Моторно возило намењено за извођење одређених радова, које има мотор са унутрашњим сагоревањем са погоним на бензин, четири точка, највећу ефективну снагу 20 kW, чија је маса 580 kg и највећу конструктивну брзину кретања 40 km/h, је:

a) теретно возило, б) мотокултиватор, в) радна машина.	1
--	----------

123 Моторно возило намењено за извођење одређених радова, које има мотор са унутрашњим сагоревањем са погоним који није на бензин, четири точка, највећу ефективну снагу 120 kW, чија је маса 1.500 kg и највећа конструктивна брзина кретања 40 km/h, је:

a) теретно возило, б) мотокултиватор, в) радна машина.	1
--	----------

124 Радна машина је приказана на слици број:

($V \leq 45 \text{ km/h}$)

				
1	2			
				
3	4			
a) 1,	б) 2,	в) 3,	г) 4.	1

125 Трактор је приказан на слици број:

				
1	2			
				
4	3			
a) 1,	б) 2,	в) 3,	г) 4.	1

126 Моторно возило је мотокултиватор ако истовремено испуњава најмање следеће услове:
(*Заокружити три тачна одговора*)

a) састоји се из погонско-управљачког и товарног дела, који су конструктивно раздвојиви, б) има једну осовину и конструисан је да вуче, потискује или носи измењива оруђа за разне радове, в) снага његовог мотора прелази 12 kW, г) његова највећа конструктивна брзина није већа од 30 km/h, д) снага његовог мотора не прелази 12 kW, ђ) његова највећа конструктивна брзина није већа од 45 km/h.	1
--	----------

127 Возило је прикључно ако истовремено испуњава најмање следеће услове:
(*Заокружити два тачна одговора*)

a) по конструкцији, уређајима, склоповима и опреми је намењено и оспособљено да буде вучено од другог возила, б) има једну осовину и конструисано је да вуче или потискује измењива оруђа за разне радове, в) намењено је за превоз путника, односно ствари, односно за обављање радова, г) намењено је за обављање пољопривредних, шумских или других радова, и у сврху извођења тих радова, поставља се на моторно возило.	1
---	----------



РЕПУБЛИКА СРБИЈА

МИНИСТАРСТВО УНУТРАШЊИХ ПОСЛОВА – УПРАВА САОБРАЋАЈНЕ ПОЛИЦИЈЕ





Забрањено је коришћење, односно повремено или стално умножавање базе података испитних питања или њених делова, било којим средствима и у било којој форми, у **комерцијалне сврхе**

128 Мотокултиватор је приказан на слици број:

	
1	2
	
3	4

а) 1, б) 2, в) 3, г) 4. **1**

129 Возило које је по конструкцији, уређајима, склоповима и опреми намењено и оспособљено да буде вучено од другог возила, а служи за превоз путника, односно ствари, односно за обављање радова је:

а) прикључно возило,
 б) запрежно возило,
 в) прикључак за извођење радова.


1

130 Прикључно возило је приказано на слици број:

	
1	2
	
3	4

а) 1, б) 2, в) 3, г) 4. **1**

131 Прикључно возило за трактор је приказано на слици број:

	
1	2
	
3	4

а) 1, б) 2, в) 3, г) 4. **1**

132 Прикључак за извођење радова је приказан на слици број:

	
1	2
	
3	4

а) 1, б) 2, в) 3, г) 4. **1**

133 Запрежно возило је приказано на слици број:

	
1	2
	
3	4

а) 1, б) 2, в) 3, г) 4. **1**

134 Трамвај је приказан на слици број:

	
1	2
	
3	4

а) 1, б) 2, в) 3, г) 4. **1**

135 Бицикличка трака је:





а) пут намењен искључиво за кретање бицикала,
 б) пут намењен искључиво за кретање бицикала и мопеда,
 в) саобраћајна трака намењена искључиво за саобраћај бицикала, мопеда и лаких трицикала.

2





Забрањено је коришћење, односно повремено или стално умножавање базе података испитних питања или њених делова, било којим средствима и у било којој форми, у **комерцијалне сврхе**

136	Лек који садржи психоактивну супстанцу и који се не сме употребљавати пре и за време вожње, на паковању има ознаку приказану на слици број:			
				
а) 1,	б) 2,	в) 3,	г) 4.	1

137	Која од набројаних површина је пут? (Заокружити два тачна одговора)
а) Улица. б) Полигон за пробне вожње или спортске приредбе. в) Пешачка стаза. г) Саобраћајна површина намењена за кретање само возила и лица којима је власник те површине то омогућио. д) Спортски терен на којем се паркирају возила.	2

138	Која од набројаних површина је пут? (Заокружити два тачна одговора)
а) Земљани пут. б) Тркачка стаза за возила. в) Плато намењен кретању и окупљању лица. г) Травњаци и паркови. д) Бицикличка стаза	2

139	Које од наведених услова мора испуњавати аутопут? (Заокружити три тачна одговора)
а) Пут који има најмање три саобраћајне траке по смеру. б) Пут код којег су коловозне траке за саобраћај из супротних смерова физички одвојене. в) Пут код којег коловозне траке за саобраћај из супротних смерова не морају бити физички одвојене. г) Пут који има најмање две саобраћајне траке по смеру и једну зауставну траку за сваки смер. д) Државни пут код кога сва укрштања са другим путевима и железничким или трамвајским пругама нису изведена у истом нивоу. ђ) Државни пут код кога укрштања у нивоу са другим путевима морају бити изведена као раскрснице са кружним током или регулисана семафорима.	2

140	Пут без изграђеног коловозног застора, па и када на прикључку на други пут има изграђен коловозни застор је:
а) некатегорисани пут намењен искључиво за саобраћај трактора, мотокултиватора и запрежних возила, б) земљани пут, в) макадамски пут.	2

141	Које од наведених услова мора испуњавати аутопут: (Заокружити три тачна одговора)
а) пут који је као такав обележен прописаним саобраћајним знаком, б) пут код којег коловозне траке за саобраћај из супротних смерова не морају бити физички одвојене, в) државни пут намењен искључиво за саобраћај мотоцикала, путничких возила, теретних возила и аутобуса, са или без прикључних возила, г) државни пут намењен за саобраћај моторних возила, д) пут обележен прописаном ознаком на коловозу, ђ) пут са потпуном контролом приступа, на који се може укључити или искључити само одређеним и посебно изграђеним јавним путем.	2

142	Које од наведених услова мора испуњавати мотопут: (Заокружити два тачна одговора)
а) пут код којег коловозне траке за саобраћај из супротних смерова морају бити физички одвојене, б) пут који мора имати најмање две саобраћајне траке по смеру и једну зауставну траку за сваки смер, в) државни пут намењен искључиво за саобраћај мотоцикала, путничких возила, теретних возила и аутобуса, са или без прикључних возила, г) државни пут намењен за саобраћај свих моторних возила, д) пут који је као такав обележен прописаним саобраћајним знаком.	2

143	Које од наведених услова мора испуњавати мотопут: (Заокружити два тачна одговора)
а) државни пут који мора имати потпуну контролу приступа, на који се може укључити или искључити само одређеним и посебно изграђеним јавним путем, б) пут обележен прописаном ознаком на коловозу, в) пут који је као такав обележен прописаним саобраћајним знаком, г) пут који мора имати зауставну траку за сваки смер, д) државни пут намењен искључиво за саобраћај мотоцикала, путничких возила, теретних возила и аутобуса, са или без прикључних возила.	2



РЕПУБЛИКА СРБИЈА

МИНИСТАРСТВО УНУТРАШЊИХ ПОСЛОВА – УПРАВА САОБРАЋАЈНЕ ПОЛИЦИЈЕ





Забрањено је коришћење, односно повремено или стално умножавање базе података испитних питања или њених делова, било којим средствима и у било којој форми, у **комерцијалне сврхе**

144 Коловоз је на слици означен бројем:

а) 1, в) 3,
б) 2, г) 4.

2

145 Коловозна трака је на слици означена бројевима:

а) 1, б) 2, в) 3, г) 4.

2

146 Саобраћајне траке, на аутопуту, су на слици означене бројевима: (Заокружите два тачна одговора)

а) 1 и 3,
б) 2 и 3,
в) 4, 5 и 6,
г) 4 и 5,
д) 7 и 8.

2

147 Саобраћајна трака је на слици означена бројевима: (Заокружити два тачна одговора)

а) 5 и 6,
б) 2 и 3,
в) 8 и 9,
г) 4 и 7,
д) 1 и 8.

2

148 Саобраћајна трака је на слици означена бројевима: (Заокружити два тачна одговора)

а) 1, 2 и 3,
б) 2 и 3,
в) 4, 5 и 6,
г) 7, 8 и 9,
д) 5 и 6,
ђ) 7 и 8.

2

149 Саобраћајне траке на слици су означене бројевима:

а) 1 и 2, б) 2 и 3, в) 1 и 3.

2

150 Саобраћајна трака је на слици означена бројевима: (Заокружити два тачна одговора)

а) 6 и 7,
б) 2 и 3,
в) 1 и 3,
г) 4 и 5.

2

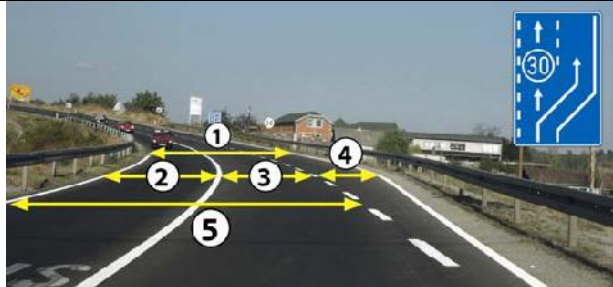
151 Бициклистичка трака је на слици означена бројем:

а) 1, б) 2, в) 3, г) 4.

2

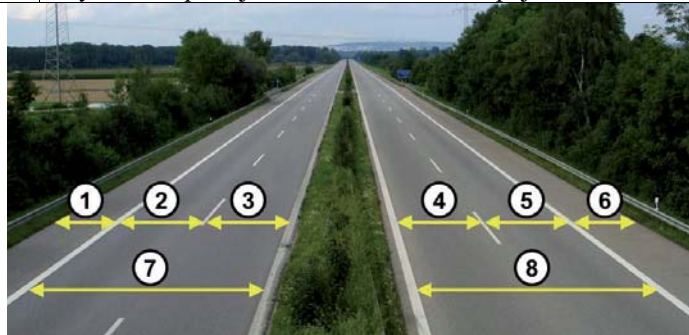


152 Саобраћајна трака за спора возила је на слици означена бројем:




- а) 1, б) 2, в) 3, г) 4, д) 5. **2**

153 Зауствавна трака је на слици означена бројевима:




- а) 1 и 6,
б) 2 и 3,
в) 4 и 5,
г) 7 и 8. **2**

154 Саобраћајна трака за укључивање је на слици означена бројем:



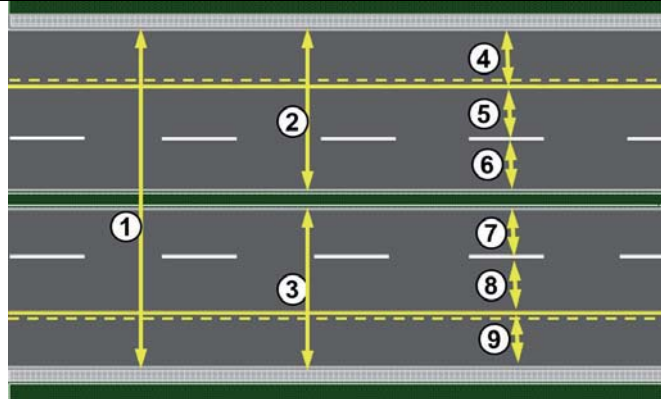
- а) 1, б) 2, в) 3, г) 4. **2**

155 Саобраћајна трака за искључивање је на слици означена бројем:



- а) 1, б) 2, в) 3, г) 4. **2**

156 Саобраћајна трака за возила јавног превоза путника на слици је означена бројевима:



- а) 2 и 3,
б) 4 и 9,
в) 8 и 5,
г) 1, 4 и 9. **2**

157 Раскрсница је:


- а) део коловоза на коме се укрштају, спајају или раздвајају путеви у истом нивоу,
б) део пута који мора бити означен прописаним ознакама на коловозу и саобраћајним знаком,
в) место на којем се у истом нивоу укрштају пут и железничка пруга. **2**

158 Трамвајска баштица је на слици означена бројем:



- а) 1,
б) 2,
в) 3,
г) 4. **2**

159 Тротоар је на слици означен бројевима: (Заокружити два тачна одговора)



- а) 1, б) 2, в) 3, г) 4, д) 5. **2**



160 Паркиралиште је на слици означено бројем:

а) 1, б) 2, в) 3, г) 4. 2

164 Пешачка стаза на слици је означена бројем:

а) 1, б) 2, в) 3, г) 4. 2

161 Паркинг-место је на слици означено бројем:

а) 1, б) 2, в) 3, г) 4. 2

165 Бицикличка стаза је:

- а) пут намењен искључиво за кретање бицикала,
- б) пут намењен искључиво за кретање бицикала и мопеда,
- в) саобраћајна трака намењена искључиво за саобраћај бицикала.

2

162 Пешачки прелаз је на слици означен бројем:

а) 1,
б) 2,
в) 3. 2

166 Бицикличка стаза на слици је означена бројем:

а) 1, б) 2, в) 3, г) 4. 2

163 Пешачки прелаз на слици је означен бројем:

а) 1, б) 2, в) 3, г) 4. 2

167 Слика приказује:

- а) трамвајску баштицу,
- б) раскрсницу,
- в) прелаз пута преко железничке пруге,
- г) паркиралиште.

2



Забрањено је коришћење, односно повремено или стално умножавање базе података испитних питања или њених делова, било којим средствима и у било којој форми, у **комерцијалне сврхе**

168 Пешачко острво је на слици означено бројем:

а) 1, б) 2, в) 3, г) 4. **2**

169 Од саобраћајног знака приказаног на слици почиње:

а) насељено место,
б) насеље,
в) зона успореног саобраћаја,
г) туристичко одређиште. **2**

170 Од саобраћајног знака приказаног на слици се завршава:

а) насељено место,
б) насеље,
в) зона успореног саобраћаја,
г) туристичко одређиште. **2**

171 Део пута, улице или део насеља по коме је дозвољен искључиво саобраћај пешака је:

а) зона "30",
б) пешачка зона,
в) зона успореног саобраћаја. **2**

172 Када је у пешачкој зони дозвољено кретање одређених возила она се морају кретати брзином:

а) кретања пешака,
б) која није већа од 20 km/h,
в) која није већа од 30 km/h. **2**

173 Део пута, улице или део насеља у коме коловоз користе пешаци и возила и који је означен одговарајућом саобраћајном сигнализацијом је:

а) пешачка зона,
б) зона "30",
в) зона успореног саобраћаја. **2**

174 Возач је обавезан да се у зони успореног саобраћаја креће тако да не омета кретање пешака и бициклиста, брзином:

а) која није већа од 30 km/h,
б) која није већа од 20 km/h,
в) кретања пешака, а највише 10 km/h. **2**

175 Зона "30" је:

а) део пута, улице или насеља у којој је брзина кретања возила ограничена до 30 km/h,
б) део пута, улице или део насеља у коме коловоз користе пешаци и возила,
в) део пута или улице у непосредној близини школе. **2**

176 Део пута, улице или насеља у којој је брзина кретања возила ограничена до 30 km/h је:

а) пешачка зона,
б) зона "30",
в) зона успореног саобраћаја. **2**

177 Брзина кретања возила у насељу, на делу пута или улице у непосредној близини школе („Зона школе“), је ограничена до:

а) 50 km/h, у времену од 7,00 до 21,00 сат, осим ако саобраћајним знаком време забране није другачије одређено,
б) 30 km/h, у времену од 7,00 до 21,00 сат, осим ако саобраћајним знаком време забране није другачије одређено,
в) 20 km/h, радним данима у времену од 7,00 до 21,00 сат. **2**

178 Брзина кретања возила ван насеља, на делу пута или улице у непосредној близини школе („Зона школе“), је ограничена до:

а) 30 km/h, у времену од 7,00 до 21,00 сат,
б) 50 km/h, у времену од 7,00 до 21,00 сат, осим ако саобраћајним знаком време забране није другачије одређено,
в) 20 km/h, радним данима у времену од 7,00 до 21,00 сат, осим ако саобраћајним знаком време забране није другачије одређено. **2**



Забрањено је коришћење, односно повремено или стално умножавање базе података испитних питања или њених делова, било којим средствима и у било којој форми, у **комерцијалне сврхе**

179	Возач мора искључити мотор возила којим управља када прекид кретања у тунелу траје дуже од:	
	а) једног минута, б) два минута, в) три минута.	2

181	Возач мора искључити мотор возила којим управља:	
	а) у случају прекида кретања ради поступања по светлосном знаку забране проласка који даје семафор, б) у случају прекида кретања ради поступања по светлосном знаку забране проласка који даје семафор који траје дуже од два минута. в) када прекид кретања траје дуже од три минута.	2

180	Возач мора искључити мотор возила којим управља:	
	а) у случају прекида кретања ради поступања по светлосном знаку забране проласка који даје семафор, б) на захтев полицијског службеника или другог службеног лица, в) у случају прекида кретања ради поступања по светлосном знаку забране проласка који даје семафор који траје дуже од два минута.	2

182	Испуштање, односно одлагање материје и отпада, којим се угрожава живот и здравље људи, животиња, биљака или загађује животна средина:	
	а) је дозвољено само на путевима ван насељеног места, б) није дозвољено, в) није дозвољено само на делу пута на којем постоји саобраћајни знак којим је забрањен саобраћај возила која превозе материје које могу изазвати загађење животне средине.	2



РЕПУБЛИКА СРБИЈА

МИНИСТАРСТВО УНУТРАШЊИХ ПОСЛОВА – УПРАВА САОБРАЋАЈНЕ ПОЛИЦИЈЕ





ПОСЕБНЕ МЕРЕ И ОВЛАШЋЕЊА

1.	Полицијски службеник ће привремено искључити из саобраћаја возача који: <i>(Заокружити два тачна одговора)</i>	
	а) се креће возилом брзином која је од 51 km/h до 70 km/h већа од дозвољене на путу у насељу, б) управља возилом под дејством алкохола, в) управља возилом за које је при контроли саобраћаја утврђено да је технички неисправно због неисправности уређаја за управљање или уређаја за заустављање, г) одбије да се подвргне испитивању, односно стручном прегледу.	2

2.	Полицијски службеник ће привремено искључити из саобраћаја возача који: <i>(Заокружити два тачна одговора)</i>	
	а) захтева анализу крви, односно урина, б) ноћу на моторном возилу за време вожње у саобраћају на путу нема укључена дуга светла, в) управља возилом под дејством психоактивних супстанци, г) се креће возилом брзином која је већа за више од 70 km/h од дозвољене на путу ван насеља.	2

3.	Полицијски службеник ће привремено искључити из саобраћаја возача који: <i>(Заокружити два тачна одговора)</i>	
	а) прекорачи дневно време управљања, б) се насилнички понаша у саобраћају (насилничка вожња), в) се креће возилом брзином која је већа за више од 70 km/h од дозвољене на путу ван насеља, г) прекорачи недељно време управљања.	2

4.	Полицијски службеник ће привремено искључити из саобраћаја возача који: <i>(Заокружити два тачна одговора)</i>	
B C D F	а) управља возилом за време трајања заштитне мере или мере безбедности, б) управља возилом које је оптерећено преко своје носивости за више од 5%, в) нема возачку дозволу за управљање возилом оне категорије којој припада возило којим управља, г) прође светлосни саобраћајни знак када је тим знаком забрањен пролаз.	2

5.	Полицијски службеник ће привремено искључити из саобраћаја возача који: <i>(Заокружити два тачна одговора)</i>	
B C D	а) је затечен да управља возилом у саобраћају за време трајања искључења возача, б) управља возилом након истека рока важења возачке дозволе, односно пробне возачке дозволе, в) није искористио дневни одмор у року од 24 сата након завршетка претходног дневног или недељног одмора, г) се у зони школе креће брзином која је преко 50 km/h већа од дозвољене.	2

6.	Полицијски службеник ће привремено искључити из саобраћаја возача који: <i>(Заокружити два тачна одговора)</i>	
	а) је затечен да управља возилом у саобраћају за време трајања искључења возача, б) управља возилом након истека рока важења возачке дозволе, односно пробне возачке дозволе, в) прође светлосни саобраћајни знак када је тим знаком забрањен пролаз, г) се у зони школе креће брзином која је преко 50 km/h већа од дозвољене.	2

7.	Полицијски службеник ће привремено искључити из саобраћаја возача који: <i>(Заокружити два тачна одговора)</i>	
	а) управља возилом за време трајања заштитне мере или мере безбедности, б) управља возилом које је технички неисправно, в) нема возачку дозволу за управљање возилом оне категорије којој припада возило којим управља, г) прође светлосни саобраћајни знак када је тим знаком забрањен пролаз.	2

8.	Ради утврђивања присуства алкохола у организму возач по налогу овлашћеног лица:	
	а) је дужан да поступи без одлагања и омогући вршење испитивања помоћу одговарајућих средстава (алкометар и др.), б) није дужан да омогући вршење испитивања помоћу одговарајућих средстава (алкометар и др.), у случају да захтева да се изврши анализа крви, односно крви и урина у одговарајућој установи, в) није дужан да омогући вршење испитивања помоћу одговарајућих средстава (алкометар и др.), уколико прекине са управљањем моторним возилом.	2

9.	Да ли је возач дужан да ради утврђивања присуства алкохола у организму без одлагања поступи по налогу овлашћеног лица, и омогући вршење испитивања помоћу одговарајућих средстава (алкометар и др.)?	
	а) Не. б) Да. в) Да, само ако је учествовао у саобраћајној незгоди.	2

10.	Возач може захтевати да се изврши анализа крви, односно крви и урина или других телесних материја, у одговарајућој установи, о сопственом трошку:	
	а) ако оспорава резултате добијене извршеним испитивањем помоћу одговарајућих средстава (алкометар, дрога тест и др.), б) и без извршеног испитивања помоћу одговарајућих средстава (алкометар, дрога тест и др.), в) у року од 24 сата након извршеног испитивања.	2





Забрањено је коришћење, односно повремено или стално умножавање базе података испитних питања или њених делова, било којим средствима и у било којој форми, у комерцијалне сврхе

11.	Возач може захтевати да се изврши анализа крви, односно крви и урина или других телесних материја, у одговарајућој установи, о сопственом трошку ако оспорава резултате добијене извршеним испитивањем помоћу одговарајућих средстава (алкометар, дрога тест и др.):	
	а) у писаној форми, на лицу места, у записник у коме су утврђени резултати испитивања, б) усмено на лицу места, в) у писаној форми, у року од 24 сата након извршеног испитивања.	2

12.	Ако возило којим је управљао возач који је искључен из саобраћаја омета несметано и безбедно одвијање саобраћаја, полицијски службеник може:	
	а) привремено одузети возило док не престану разлози за искључење возача, б) преместити возило, односно наложити да се возило премести, в) омогућити возачу да заврши започету вожњу до жељеног одредишта.	2

13.	Ако возило које је искључено из саобраћаја, омета несметано и безбедно одвијање саобраћаја полицијски службеник може:	
	а) привремено одузети возило док не престану разлози за искључење возача, односно возила, б) преместити возило, односно наложити да се возило премести, в) омогућити возачу да заврши започету вожњу до жељеног одредишта.	2

14.	Полицијски службеник може преместити, односно наложити да се премести:	
	а) свако возило којим је управљао возач који је искључен из саобраћаја, б) возило којим је управљао возач који је искључен из саобраћаја када исто омета несметано и безбедно одвијање саобраћаја, в) свако возило чији возач је прекршио и показује намеру за даље кршења прописа о безбедности саобраћаја.	2

15.	Полицијски службеник може преместити, односно наложити да се премести:	
	а) свако возило које је искључено из саобраћаја, б) свако возило које не испуњава услове за учешће у саобраћају, в) возило које је искључено из саобраћаја када исто омета несметано и безбедно одвијање саобраћаја.	2

16.	Трошкове премештања возила којим је управљао возач који је искључен из саобраћаја сноси:	
	а) власник, односно корисник возила, б) орган чији је службеник наложио премештање, в) власник, односно корисник возила, само у случају када је искључени возач задржан до отрежњења.	2

17.	Трошкове премештања возила које је искључено из саобраћаја сноси:	
	а) власник, односно корисник возила, само у случају када је возило искључено због неисправности уређаја за управљање или уређаја за заустављање, б) орган чији је службеник наложио премештање, в) власник, односно корисник возила.	2

18.	Возач који је под дејством алкохола ће бити задржан до отрежњења, а најдуже 12 сати, ако има садржај алкохола у крви већи од:	
	а) 0,50 mg/ml, б) 1,00 mg/ml, в) 1,20 mg/ml.	2

19.	Возач који одбије да се подвргне испитивању на присуство алкохола и/или других психоактивних супстанци ће бити:	
	а) само искључен из саобраћаја, б) спроведен у одговарајућу установу да се изврши анализа крви, односно крви и урина или других телесних материја, в) искључен из саобраћаја и обавезно задржан.	2

20.	Возач који је под дејством алкохола, чији је садржај алкохола у крви мањи од 1,20 mg/ml:	
	а) мора бити обавезно задржан, б) може бити задржан само ако изражава намеру, односно ако постоји опасност да ће наставити са управљањем возилом након што је искључен из саобраћаја, в) може бити задржан само ако је изазвао саобраћајну незгоду.	2

21.	Возач који је под дејством алкохола, чији је садржај алкохола у крви 1,00 mg/ml:	
	а) мора бити обавезно задржан, б) може бити задржан само ако изражава намеру, односно ако постоји опасност да ће наставити са управљањем возилом након што је искључен из саобраћаја, в) може бити задржан само ако је изазвао саобраћајну незгоду.	2

22.	Надлежном органу за прекршаје биће доведен возач: <i>(Заокружити два тачна одговора)</i>	
	а) који је затечен у чињењу прекршаја и који оспорава чињење прекршаја, б) који је затечен у чињењу прекршаја за које је обавезно изрицање казних поена, в) који је затечен у чињењу прекршаја и који изражава намеру за даље чињење прекршаја, г) који је затечен у чињењу прекршаја за које је обавезно изрицање заштитне мере забране управљања моторним возилом, д) који је затечен у чињењу прекршаја и који је наставио са чињењем тог прекршаја.	2



РЕПУБЛИКА СРБИЈА

МИНИСТАРСТВО УНУТРАШЊИХ ПОСЛОВА – УПРАВА САОБРАЋАЈНЕ ПОЛИЦИЈЕ





Забрањено је коришћење, односно повремено или стално умножавање базе података испитних питања или њених делова, било којим средствима и у било којој форми, у **комерцијалне сврхе**

23.	Возач који је затечен у чињењу прекршаја и који изражава намеру за даље чињење прекршаја, односно који је наставио са чињењем тог прекршаја може бити задржан најдуже 24 сата:	
	а) само ако је прекршај учињен под дејством алкохола, б) само ако не може одмах бити доведен надлежном органу за прекршаје, в) ако је прекршајем изазвана непосредна опасност за друге учеснике у саобраћају.	2

24.	Возило може бити упућено на контролни технички преглед када:	
	а) полицијски службеник посумња у техничку исправност возила, б) је возило искључено из саобраћаја због техничке неисправности, в) су на возилу које је учествовало у саобраћајној незгоди оштећени витални склопови и уређаји битни за безбедно учешће возила у саобраћају на путу.	2

25.	Контролни технички преглед возила:	
	а) може бити извршен у објекту за вршење техничког прегледа који одабере возач, б) може бити извршен само у објекту за вршење техничког прегледа који одреди полицијски службеник, в) мора бити извршен у објекту за вршење техничког прегледа у којем је извршен последњи редовни технички преглед возила.	2

26.	Возач возила које је упућено на контролни технички преглед дужан је да:	
	а) без одлагања поступи по налогу овлашћеног лица и омогући вршење контролног техничког прегледа само ако је возило учествовало у саобраћајној незгоди, б) без одлагања поступи по налогу овлашћеног лица и омогући вршење контролног техничког прегледа, в) омогући вршење контролног техничког прегледа најкасније до истека рока од 24 сата од упућивања.	2

27.	Да ли је возач дужан да без одлагања поступи по налогу овлашћеног лица и омогући вршење контролног техничког прегледа?	
	а) Да. б) Да, само уколико је возило неоптерећено. в) Не, уколико за возило постоји потврда о техничкој исправности.	2

28.	Трошкове контролног техничког прегледа сноси:	
	а) власник, односно корисник возила, без обзира на утврђено стање техничке исправности, б) орган чије је службено лице упутило возило на контролни технички преглед, без обзира на утврђено стање техничке исправности, в) власник, односно корисник возила, само када је на контролном техничком прегледу утврђена техничка неисправност возила.	2

29.	Возило може бити упућено на мерења осовинског оптерећења када:	
B C D F	а) полицијски службеник посумња да возило не испуњава прописане услове у погледу осовинског оптерећења и укупне масе возила, б) је возило искључено из саобраћаја због техничке неисправности, в) је оптерећено теретно возило учествовало у саобраћајној незгоди при чему су оштећени витални склопови и уређаји битни за безбедно учешће возила у саобраћају на путу.	2

30.	Возач возила које је упућено на мерења осовинског оптерећења дужан је да:	
B C D F	а) без одлагања поступи по налогу овлашћеног лица и омогући мерења осовинског оптерећења само ако је возило учествовало у саобраћајној незгоди, б) без одлагања поступи по налогу овлашћеног лица и омогући мерења осовинског оптерећења, в) омогући мерења осовинског оптерећења најкасније до истека рока од 24 сата од упућивања.	2

31.	Да ли је возач дужан да без одлагања поступи по налогу овлашћеног лица и омогући мерења осовинског оптерећења, односно укупне масе возила?	
B C D F	а) Да, само уколико се ради о оптерећеном теретном или прикључном возилу. б) Не, уколико возач поседује документ из кога се може утврдити маса терета на возилу. в) Да.	2

32.	Трошкове мерења осовинског оптерећења сноси:	
B C D F	а) власник, односно корисник возила, без обзира на вредности добијене мерењем, б) орган чије је службено лице упутило возило на мерење, без обзира на вредности добијене мерењем, в) власник, односно корисник возила, само када је мерењем утврђено да возило не испуњава прописане вредности у погледу осовинског оптерећења, односно укупне масе возила.	2

33.	Из саобраћаја ће бити искључено возило код кога: <i>(Заокружити два тачна одговора)</i>	
	а) је технички неисправан уређај за управљање или уређај за заустављање, б) које је проглашено неисправним на контролном техничком прегледу, без обзира на утврђени степен неисправности возила, в) су технички неисправни уређаји и опрема тако да могу угрозити безбедност саобраћаја и животну средину, г) терет у расутом стању није прекривен.	2



РЕПУБЛИКА СРБИЈА

МИНИСТАРСТВО УНУТРАШЊИХ ПОСЛОВА – УПРАВА САОБРАЋАЈНЕ ПОЛИЦИЈЕ





Забрањено је коришћење, односно повремено или стално умножавање базе података испитних питања или њених делова, било којим средствима и у било којој форми, у **комерцијалне сврхе**

34.	Из саобраћаја ће бити искључено возило: (Заокружити два тачна одговора)	
B	а) које је оптерећено преко своје носивости за више од 5%,	2
C	б) које није у прописаном року подвргнуто редовном шестомесечном техничком прегледу,	
D	в) које има непрописно смештен, обележен или причвршћен терет,	
F	г) у чијем простору за превоз терета се превозе лица.	

35.	Из саобраћаја ће бити искључено возило: (Заокружити два тачна одговора)	
B	а) чија се вуча обавља на непрописан начин,	2
C	б) којим се обавља ванредни превоз ако није означено ротационим, односно трепћућим светлима плаве боје,	
D	в) које на непрописан начин вуче друго возило,	
F	г) којим се ванредни превоз не обавља у складу са условима наведеним у одобрењу о ванредном превозу.	

36.	Из саобраћаја ће бити искључено возило: (Заокружити два тачна одговора)	
B	а) које не испуњава прописане услове у погледу димензија, највеће дозвољене укупне масе или осовинског оптерећења, а нема дозволу за ванредни превоз,	2
C	б) чија је највећа дозвољена маса већа од највеће дозвољене укупне масе,	
D	в) чији терет на предњој страни прелази најудаљенију тачку до 1 m, а нема дозволу за ванредни превоз,	
F	г) чија је највећа дозвољена маса већа од укупне масе возила, д) које са теретом премашује највеће дозвољене димензије (дужина, ширина и висина) за поједине врсте возила, а нема дозволу за ванредни превоз.	

37.	Из саобраћаја ће бити искључено возило: (Заокружити два тачна одговора)	
	а) које супротно прописима има уграђено жуто ротационо или трепћуће светло,	2
	б) које супротно прописима има уграђене уређаје за давање посебних светлосних и звучних знакова, а возач уређаје не уклони у року којим му је то одређено наредбом полицијског службеника,	
	в) које је уместо регистарским таблицама означено непрописним таблицама,	
	г) на коме регистарске таблице нису постављене на прописан начин.	

38.	Ако возач возила које се креће на путу на којем кретање тог возила није дозвољено, не поступи по наредби да без одлагања најкраћим путем напусти тај пут:	
	а) возило ће бити искључено из саобраћаја,	2
	б) возач ће бити искључен из саобраћаја,	
	в) возач ће бити доведен надлежном органу за прекршаје.	

39.	Из саобраћаја ће бити искључено возило: (Заокружити два тачна одговора)	
	а) на коме регистрациона налепница није постављена на прописан начин,	2
	б) које није уписано у јединствени регистар возила,	
	в) за које постоји обавеза означавања ознакама за дуга, тешка и спора возила а није означено тим ознакама,	
	г) чијој регистрационој налепници, односно потврди о коришћењу таблица за привремено означавање, је истекао рок важења.	

40.	Из саобраћаја ће бити искључено возило: (Заокружити два тачна одговора)	
	а) које није подвргнуто контролном техничком прегледу на који је упућен,	2
	б) које није подвргнуто редовном шестомесечном техничком прегледу,	
	в) које није подвргнуто мерењу осовинског оптерећења, односно укупне масе, на које је упућено,	
	г) које не поседује важеће уверење о исправности тахографа.	

41.	Из саобраћаја ће бити искључено возило: (Заокружити два тачна одговора)	
	а) које није у прописаном року подвргнуто периодичном прегледу уређаја за погон возила на гас,	2
	б) које је појединачно произведено или преправљено, а није извршено испитивање и издато уверење о испитивању,	
	в) које учествује у саобраћају за време трајања искључења,	
	г) којим се превози већи број лица од броја колико је означено у саобраћајној дозволи.	

42.	Када је возило искључено из саобраћаја трошкове обезбеђења возила и терета и смештаја путника сноси:	
	а) власник, односно корисник возила,	2
	б) орган чији је службеник наложио искључење,	
	в) власник, односно корисник возила, само у случају када искључење траје дуже од 24 часа.	

43.	Ако се возило креће на путу на којем кретање тог возила није дозвољено:	
	а) возило ће бити искључено из саобраћаја,	2
	б) возачу ће бити наређено да без одлагања најкраћим путем напусти тај пут,	
	в) возачу ће бити дозвољено да настави кретање тим путем након санкционисања непрописног поступања.	

44.	Ако возач возила не поступи по наредби да употреби зимску опрему, односно ланце за снег:	
B	а) возач ће бити искључен из саобраћаја,	2
C	б) возило ће бити привремено одузето,	
D	в) возило ће бити искључено из саобраћаја, односно, по могућности, возач ће бити упућен на пут где употреба зимске опреме није неопходна.	



РЕПУБЛИКА СРБИЈА

МИНИСТАРСТВО УНУТРАШЊИХ ПОСЛОВА – УПРАВА САОБРАЋАЈНЕ ПОЛИЦИЈЕ





Забрањено је коришћење, односно повремено или стално умножавање базе података испитних питања или њених делова, било којим средствима и у било којој форми, у **комерцијалне сврхе**

45.	Ако се возач возила креће по путу на којем је обавезна употреба зимске опреме, односно ланаца за снег, а исте не употребљава и тиме угрожава или може угрозити несметано и безбедно одвијање саобраћаја:	
B C D	а) возило ће бити искључено из саобраћаја, б) возачу ће бити наређено да употреби зимску опрему, односно ланце за снег, в) возачу ће бити дозвољено да настави кретање тим путем након санкционисања непрописног поступања.	2

46.	Ако је разлог за искључење возила настао на делу пута где ће оно ометати, односно угрожавати безбедност саобраћаја:	
	а) возачу ће бити наређено да возило обележи на прописан начин, б) возачу ће бити наређено да одвезе возило, под надзором полицијског службеника, до најближег места где је искључење могуће, в) возачу ће бити дозвољено да настави кретање до места где може отклонити разлоге за искључење из саобраћаја.	2

47.	Искључење возила из саобраћаја траје:	
	а) до престанка разлога за искључење, б) најдуже 24 сата, в) колико је, према процени полицијског службеника, потребно да се отклоне разлози за искључење.	2

48.	Ванредни технички преглед возила, које је искључено из саобраћаја због техничке неисправности утврђене на контролном техничком прегледу, се обавља:	
	а) у објекту за вршење техничког прегледа возила који изабере возач тог возила, б) по правилу у објекту за вршење техничког прегледа возила у ком је извршен контролни технички преглед, в) у објекту за вршење техничког прегледа возила који одреди полицијски службеник који је искључио возило.	2

49.	Ванредни технички преглед возила, које је искључено из саобраћаја због техничке неисправности утврђене на контролном техничком прегледу се:	
	а) може извршити и у другом објекту за вршење техничког прегледа возила када то дозволи орган чији је службеник упутио возило на контролни технички преглед, б) мора извршити само у објекту где је извршен контролни технички преглед возила, в) може извршити у било којем објекту за вршење техничког прегледа возила.	2

50.	Возачу возила које је искључено из саобраћаја:	
	а) одузеће се саобраћајна дозвола уз издавање потврде о одузимању, б) одузеће се возачка дозвола уз издавање потврде о одузимању, в) одузеће се регистарске таблице, уз издавање потврде о одузимању.	2

51.	Ако возач возила, које је искључено из саобраћаја, полицијском службенику не преда регистарске таблице:	
	а) возач ће бити доведен надлежном органу за прекршаје и биће ангажовано стручно лице, да о трошку возача, скине регистарске таблице, б) власнику, односно кориснику возила ће бити одузети кључеви возила, в) возило ће бити привремено одузето.	2

52.	Возачу возила које је искључено из саобраћаја ће бити враћене одузете регистарске таблице:	
	а) након 24 часа од момента искључења возила из саобраћаја, б) када се утврди да су престали разлози због којих је возило искључено, в) након 24 часа, а најкасније у року од три дана, од момента искључења возила из саобраћаја.	2

53.	Ако се иза возила или групе возила, због споре вожње створила колона возила:	
B C D F	а) возило или група возила ће бити искључена из саобраћаја, б) кретање возила или групе возила може бити привремено забрањено, за разумно време, а најдуже 30 минута, в) возилу или групи возила ће бити искључена из саобраћаја и одузете саобраћајне дозволе док постоје разлози за искључење.	2

54.	Исправа којом се може документовати прекршај и други деликти се може привремено одузети:	
	а) до окончања поступка, б) само уз сагласност власника, односно корисника возила. в) најдуже 24 сата.	2

55.	Возачу возила које је паркирано или заустављено супротно прописима биће:	
	а) одмах уручено решење о уклањању возила, б) наређено да одмах уклони возило, под претњом принудног извршења, в) наређено да уклони возило у року који не може бити дужи од 15 минута, под претњом принудног извршења.	2

56.	Када је возило паркирано супротно прописима, а возач није присутан:	
	а) возило ће одмах бити уклоњено, б) биће донето решење у писаној форми којим се налаже уклањање возила у року који не може бити краћи од 15 минута и један примерак решења ће бити постављен на видно место на возилу, в) биће донето решење у писаној форми којим се налаже уклањање возила у року који не може бити краћи од 3 минута и један примерак решења ће бити постављен на видно место на возилу.	2



РЕПУБЛИКА СРБИЈА

МИНИСТАРСТВО УНУТРАШЊИХ ПОСЛОВА – УПРАВА САОБРАЋАЈНЕ ПОЛИЦИЈЕ





Забрањено је коришћење, односно повремено или стално умножавање базе података испитних питања или њених делова, било којим средствима и у било којој форми, у **комерцијалне сврхе**

57.	Када се путем видео надзора или фото записа утврди да је возило паркирано супротно прописима биће донето решење у електронској форми којим се налаже уклањање возила:	
	а) у року који не може бити краћи од 15 минута, а полицијски службеник поставља на видно место возила обавештење о донетом решењу, б) у року који не може бити краћи од 3 минута, а лице које уклања возило поставља на видно место возила обавештење о донетом решењу, в) у року који не може бити краћи од 10 минута, а полицијски службеник поставља на видно место возила обавештење о донетом решењу.	2

58.	Ако возач, у року одређеним решењем, не уклони возило које је паркирао или зауставио, супротно прописима:	
	а) возило ће бити уклоњено на за то одређено место, о трошку возача или власника, односно корисника возила, б) возило ће бити уклоњено на за то одређено место, о трошку органа који је наредио уклањање, в) биће онемогућено померање возила док возач не плати новчану казну која је прописана за овај прекршај.	2

59.	Возило прописно паркирано на паркинг месту:	
	а) не може бити уклоњено, б) може бити уклоњено ако није измирена накнада за паркирање, в) може бити уклоњено ако је видно запуштено и није регистровано.	2

60.	Одговорност за штете настале од започињања уклањања до преузимања возила сноси:	
	а) орган који је наредио уклањање, б) возач, власник, односно корисник возила. в) правно лице, односно предузетник, којем је поверено уклањање возила.	2

61.	Ако се возач појави на месту са којег се уклања непрописно паркирано возило:	
	а) уклањање ће се прекинути ако возач прихвати да уклони возило, при чему он сноси трошкове претходно предузетих радњи, б) уклањање ће се прекинути ако возач прихвати да сноси трошкове као да је возило уклоњено, в) уклањање мора бити извршено.	2



РЕПУБЛИКА СРБИЈА


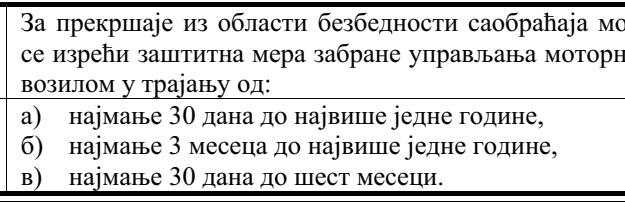
МИНИСТАРСТВО УНУТРАШЊИХ ПОСЛОВА – УПРАВА САОБРАЋАЈНЕ ПОЛИЦИЈЕ





Забрањено је коришћење, односно повремено или стално умножавање базе података испитних питања или њених делова, било којим средствима и у било којој форми, у **комерцијалне сврхе**

ПОСЛЕДИЦЕ НЕПОШТОВАЊА ПРОПИСА

<p>1. Непрописно поступање возача које је у грубој супротности са правилима саобраћаја (насилничка вожња), као на слици, казниће се:</p>		<p>а) новчаном казном од 15.000 до 30.000 динара и 6 казнених поена, б) казном затвора од 30 до 60 дана и 15 казнених поена, в) новчаном казном од 5.000 динара.</p>	<p>2</p>
<p>2. За прекршаје из области безбедности саобраћаја може се изрећи заштитна мера забране управљања моторним возилом у трајању од:</p>	<p>а) најмање 30 дана до највише једне године, б) најмање 3 месеца до највише једне године, в) најмање 30 дана до шест месеци.</p>	<p>2</p>	<p>2</p>
<p>3. Ако се у ситуацији приказаној на слици не зауставите док лица улазе, односно излазе из трамваја бићете кажњени:</p>		<p>а) новчаном казном од 6.000 до 20.000 динара и 2 казнена поена, б) новчаном казном од 5.000 динара, в) казном затвора до 30 дана.</p>	<p>2</p>
<p>4. Возач који управља возилом, а нема возачку дозволу за категорију возила којом управља, осим у случају када је возачкој дозволи истекао рок важења, казниће се:</p>	<p>а) новчаном казном од 15.000 до 30.000 динара и 8 казнених поена, б) казном затвора од најмање 15 дана или новчаном казном од 100.000 динара до 120.000 динара и 14 казнених поена, в) новчаном казном од 5.000 динара.</p>	<p>2</p>	<p>2</p>
<p>5. Возач који управља возилом под дејством алкохола чија је садржина више од 2,00 mg/ml, казниће се:</p>	<p>а) новчаном казном од 6.000 до 20.000 динара и 4 казнена поена, б) казном затвора од најмање 15 дана или новчаном казном од 100.000 динара до 120.000 динара и 14 казнених поена, в) новчаном казном од 5.000 динара.</p>	<p>2</p>	<p>2</p>
<p>6. Возач који одбије да се подвргне утврђивању присуства у организму алкохола и/или психоактивних супстанци помоћу одговарајућих средстава (алкометар, дрога тест и др.), казниће се:</p>	<p>а) новчаном казном од 6.000 до 20.000 динара и 4 казнена поена, б) новчаном казном од 5.000 динара, в) казном затвора од најмање 15 дана или новчаном казном од 100.000 динара до 120.000 динара и 14 казнених поена.</p>	<p>2</p>	<p>2</p>
<p>7. Возач који је затечен да управља возилом у саобраћају за време трајања његовог искључења из саобраћаја, казниће се:</p>	<p>а) казном затвора од најмање 15 дана или новчаном казном од 100.000 динара до 120.000 динара и 14 казнених поена, б) новчаном казном од 15.000 до 30.000 динара и 10 казнених поена, в) новчаном казном од 5.000 динара.</p>	<p>2</p>	<p>2</p>
<p>8. Возач који је затечен да управља возилом у саобраћају за време трајања искључења возила из саобраћаја, казниће се:</p>	<p>а) новчаном казном од 15.000 до 30.000 динара и 10 казнених поена, б) казном затвора од најмање 15 дана или новчаном казном од 100.000 динара до 120.000 динара и 14 казнених поена, в) новчаном казном од 10.000 динара.</p>	<p>2</p>	<p>2</p>
<p>9. Возач који је затечен да управља возилом у саобраћају за време трајања заштитне мере, односно мере безбедности, забране управљања моторним возилом, казниће се:</p>	<p>а) новчаном казном од 30.000 до 50.000 динара и 10 казнених поена, б) казном затвора од најмање 15 дана или новчаном казном од 100.000 динара до 120.000 динара и 14 казнених поена, в) новчаном казном од 10.000 динара</p>	<p>2</p>	<p>2</p>



РЕПУБЛИКА СРБИЈА

МИНИСТАРСТВО УНУТРАШЊИХ ПОСЛОВА – УПРАВА САОБРАЋАЈНЕ ПОЛИЦИЈЕ





Забрањено је коришћење, односно повремено или стално умножавање базе података испитних питања или њених делова, било којим средствима и у било којој форми, у **комерцијалне сврхе**

10.	Ако се у ситуацији приказаној на слици, након саобраћајног знака, крећете брзином од 140 km/h, бићете кажњени:		
A	а) новчаном казном од 30.000 до 50.000 динара и 10 казних поена,		2
B	б) казном затвора од најмање 15 дана или новчаном казном од 100.000 динара до 120.000 динара и 14 казних поена,		
C	в) новчаном казном од 10.000 динара.		
D			

11.	Ако се у ситуацији приказаној на слици, након саобраћајног знака, крећете брзином од 170 km/h, бићете кажњени:		
A	а) казном затвора од најмање 15 дана или новчаном казном од 100.000 динара до 120.000 динара и 14 казних поена,		2
B	б) новчаном казном од 30.000 до 50.000 динара и 8 казних поена,		
C	в) новчаном казном од 15.000 динара.		
D			

19.	Возач који је учествовао у саобраћајној незгоди у којој је неко лице задобило телесне повреде, када не заустави возило, односно не обавести полицију, казниће се:		
	а) новчаном казном од 15.000 динара до 30.000 динара,		2
	б) казном затвора од најмање 15 дана или новчаном казном од 100.000 динара до 120.000 динара и 14 казних поена,		
	в) новчаном казном од 5.000 динара.		

13.	Возач који се у зони успореног саобраћаја креће брзином од 80 km/h, казниће се:		
A	а) новчаном казном од 20.000 динара.		2
B	б) новчаном казном од 30.000 до 50.000 динара и 10 казних поена,		
C	в) казном затвора од најмање 15 дана или новчаном казном од 100.000 динара до 120.000 динара и 14 казних поена.		
D			

14.	Возач који се у зони школе у насељу, у 14:00 часова креће брзином од 100 km/h, казниће се:		
A	а) новчаном казном од 30.000 до 50.000 динара и 10 казних поена,		2
B	б) казном затвора од најмање 15 дана или новчаном казном од 100.000 динара до 120.000 динара и 14 казних поена,		
C	в) новчаном казном од 20.000 динара.		
D			

15.	Возач који ноћу управља возилом на неосветљеном делу пута, а нема укључено ниједно светло за осветљавање пута нити предње позиционо светло, казниће се:		
	а) новчаном казном од 3.000 динара,		2
	б) казном затвора од најмање 15 дана или новчаном казном од 100.000 динара до 120.000 динара и 14 казних поена,		
	в) новчаном казном од 5.000 динара.		

16.	Возач који не заустави возило испред пешачког прелаза на коме се налази најмање један пешак, када му је светлосним саобраћајним знаком или знаком овлашћеног службеног лица пролаз забрањен, казниће се:		
	а) новчаном казном од 6.000 динара до 20.000 динара,		2
	б) казном затвора од најмање 15 дана или новчаном казном од 100.000 динара до 120.000 динара и 14 казних поена,		
	в) новчаном казном од 5.000 динара.		

17.	Возач који не заустави возило испред пешачког прелаза на коме се налази најмање један пешак, када му је светлосним саобраћајним знаком или знаком овлашћеног службеног лица пролаз забрањен, казниће се:		
	а) новчаном казном од 6.000 динара до 20.000 динара,		2
	б) казном затвора од најмање 15 дана или новчаном казном од 100.000 динара до 120.000 динара и 14 казних поена,		
	в) новчаном казном од 5.000 динара.		



РЕПУБЛИКА СРБИЈА

МИНИСТАРСТВО УНУТРАШЊИХ ПОСЛОВА – УПРАВА САОБРАЋАЈНЕ ПОЛИЦИЈЕ





Забрањено је коришћење, односно повремено или стално умножавање базе података испитних питања или њених делова, било којим средствима и у било којој форми, у **комерцијалне сврхе**

20. Ако за претицање користите зауставну траку, на мотопуту бићете кажњени:



а) казном затвора од најмање 15 дана или новчаном казном од 100.000 динара до 120.000 динара и 14 казнених поена,
 б) новчаном казном од 6.000 до 20.000 динара и 2 казнена поена,
 в) новчаном казном од 5.000 динара.

2

26. Ако се у ситуацији приказаној на слици, након саобраћајног знака, крећете брзином од 110 km/h, бићете кажњени:



A а) новчаном казном од 15.000 до 30.000 динара и 7 казнених поена,
B б) казном затвора од најмање 15 дана или новчаном казном од 100.000 динара до 120.000 динара и 14 казнених поена,
C в) новчаном казном од 5.000 динара.

2

27. Ако се у ситуацији приказаној на слици, након саобраћајног знака, крећете брзином од 150 km/h, бићете кажњени:



A а) новчаном казном од 15.000 до 30.000 динара и 6 казнених поена,
B б) казном затвора од најмање 15 дана или новчаном казном од 100.000 динара до 120.000 динара и 14 казнених поена,
C в) новчаном казном од 5.000 динара.

2

21. Возач који се креће зауставном траком аутопута, казниће се:

A а) новчаном казном од 5.000 динара,
B б) казном затвора од најмање 15 дана или новчаном казном од 100.000 динара до 120.000 динара и 14 казнених поена,
C в) новчаном казном од 15.000 динара до 30.000 динара.
D

2

22. Возач који у саобраћају на путу користи уређај односно средство, којим се може откривати или ометати рад уређаја за мерење брзине кретања возила, казниће се:

а) казном затвора од најмање 15 дана или новчаном казном од 100.000 динара до 120.000 динара и 14 казнених поена,
 б) новчаном казном од 15.000 динара до 30.000 динара и 6 казнених поена,
 в) новчаном казном од 5.000 динара.

2

23. Возач који држи у крилу дете млађе од 12 година, казниће се:

а) новчаном казном од 15.000 динара до 30.000 динара и 6 казнених поена,
 б) казном затвора од најмање 15 дана или новчаном казном од 100.000 динара до 120.000 динара и 14 казнених поена,
 в) новчаном казном од 5.000 динара.

2

24. Ако у ситуацији приказаној на слици вршите претицање на непрописан начин, бићете кажњени:



а) новчаном казном од 15.000 динара до 30.000 динара и 6 казнених поена,
 б) новчаном казном од 5.000 динара,
 в) казном затвора од најмање 15 дана или новчаном казном од 100.000 динара до 120.000 динара и 14 казнених поена.

2

25. Возач који обилази возило које се зауставило испред пешачког прелаза ради пропуштања пешака, казниће се:

а) новчаном казном од 15.000 динара до 30.000 динара и 6 казнених поена,
 б) казном затвора од најмање 15 дана или новчаном казном од 100.000 динара до 120.000 динара и 14 казнених поена,
 в) новчаном казном од 5.000 динара.

2

РЕПУБЛИКА СРБИЈА



МИНИСТАРСТВО УНУТРАШЊИХ ПОСЛОВА – УПРАВА САОБРАЋАЈНЕ ПОЛИЦИЈЕ



С Забрањено је коришћење, односно повремено или стално умножавање базе података испитних питања или њених делова, било којим средствима и у било којој форми, у **комерцијалне сврхе**

31.	Возачу коме ноћу на возилу нису укључена задња позициона светла, казниће се:	
	а) новчаном казном од 15.000 динара до 30.000 динара и 6 казних поена, б) казном затвора од најмање 15 дана или новчаном казном од 100.000 динара до 120.000 динара и 14 казних поена, в) новчаном казном од 5.000 динара.	2

32.	Возач који ноћу на неосветљеном делу пута управља возилом на коме су укључена само позициона светла, казниће се:	
	а) новчаном казном од 15.000 динара до 30.000 динара и 6 казних поена, б) казном затвора од најмање 15 дана или новчаном казном од 100.000 динара до 120.000 динара и 14 казних поена, в) новчаном казном од 5.000 динара.	2

35.	Возач који за укључење на аутопут не користи прилазни пут који је намењен за укључење на тај пут, казниће се:	
A B C D	а) казном затвора од најмање 15 дана или новчаном казном од 100.000 динара до 120.000 динара и 14 казних поена, б) новчаном казном од 5.000 динара, в) новчаном казном од 15.000 динара до 30.000 динара и 6 казних поена.	2

36.	Возач који не пропусти возило са првенством пролаза, казниће се:	
	а) новчаном казном од 15.000 динара до 30.000 динара и 6 казних поена, б) казном затвора од најмање 15 дана или новчаном казном од 100.000 динара до 120.000 динара и 14 казних поена, в) новчаном казном од 5.000 динара.	2

37.	Возач који не заустави возило када полицијско возило са првенством пролаза које се креће иза њега, даје истовремено и светлосни знак упозорења, казниће се:	
	а) новчаном казном од 15.000 динара до 30.000 динара и 8 казних поена, б) казном затвора од најмање 15 дана или новчаном казном од 100.000 динара до 120.000 динара и 14 казних поена, в) новчаном казном од 5.000 динара.	2

38.	Возач који на путу управља возилом које је оптерећено преко носивости уписане у саобраћајну дозволу за више од 20 %, казниће се:	
B C F	а) новчаном казном од 15.000 динара до 30.000 динара, б) казном затвора од најмање 15 дана или новчаном казном од 100.000 динара до 120.000 динара и 14 казних поена, в) новчаном казном од 5.000 динара.	2

39.	Возач који на путу управља возилом код којег је осовинско оптерећење прописано техничким нормативима за возило премашено за више од 5 %, казниће се:	
B C D F	а) новчаном казном од 15.000 динара до 30.000 динара, б) казном затвора од најмање 15 дана или новчаном казном од 100.000 динара до 120.000 динара и 14 казних поена, в) новчаном казном од 5.000 динара.	2

41. Ако у ситуацији приказаној на слици наставите кретање након светлосног саобраћајног знака, бићете кажњени:



	а) новчаном казном од 15.000 до 30.000 динара и 6 казних поена, б) казном затвора од најмање 15 дана или новчаном казном од 100.000 динара до 120.000 динара и 14 казних поена, в) новчаном казном од 5.000 динара.	2
--	---	---

42.	Возач који се у зони школе у насељу, у 11:00 часова креће брзином од 85 km/h, казниће се:	
A B C D	а) новчаном казном од 15.000 до 30.000 динара и 6 казних поена, б) казном затвора од најмање 15 дана или новчаном казном од 100.000 динара до 120.000 динара и 14 казних поена, в) новчаном казном од 10.000 динара.	2

43.	Учесник саобраћајне незгоде, у којој је неко од учесника претрпео материјалну штету и захтева вршење увиђаја, који не остане на месту саобраћајне незгоде до завршетка увиђаја, казниће се:	
	а) новчаном казном од 15.000 до 30.000 динара и 2 казних поена, б) казном затвора од најмање 15 дана или новчаном казном од 100.000 динара до 120.000 динара и 14 казних поена, в) новчаном казном од 10.000 динара.	2



РЕПУБЛИКА СРБИЈА

МИНИСТАРСТВО УНУТРАШЊИХ ПОСЛОВА – УПРАВА САОБРАЋАЈНЕ ПОЛИЦИЈЕ





Забрањено је коришћење, односно повремено или стално умножавање базе података испитних питања или њених делова, било којим средствима и у било којој форми, у **комерцијалне сврхе**

46.	Возач који користити образац возачке дозволе чији је нестанак пријавио надлежном органу, казниће се:	
	а) новчаном казном од 5.000 динара, б) новчаном казном од 15.000 до 30.000 динара и 3 казнена поена, в) казном затвора од најмање 15 дана или новчаном казном од 100.000 динара до 120.000 динара и 14 казнених поена.	2

52.	Возач возила који учествује у саобраћају са возилом које није уписано у јединствени регистар, казниће се:	
	а) новчаном казном од 15.000 до 30.000 динара и 6 казнена поена, б) новчаном казном од 5.000 динара, в) казном затвора од најмање 15 дана или новчаном казном од 100.000 динара до 120.000 динара и 14 казнених поена.	2

47.	Возач који управља возилом под дејством психоактивне супстанце, казниће се:	
	а) новчаном казном од 5.000 динара, б) новчаном казном од 15.000 до 30.000 динара и 8 казнених поена, в) казном затвора од најмање 15 дана или новчаном казном од 100.000 динара до 120.000 динара и 14 казнених поена.	2

53.	Возач возила које је упућено на контролни технички преглед, који не омогући вршење контролног техничког прегледа, казниће се:	
	а) новчаном казном од 15.000 до 30.000 динара и 6 казнена поена, б) новчаном казном од 5.000 динара, в) казном затвора од најмање 15 дана или новчаном казном од 100.000 динара до 120.000 динара и 14 казнених поена.	2

48.	Возач који управља возилом под дејством алкохола чија је садржина 1,80 mg/ml, казниће се:	
	а) новчаном казном од 5.000 динара, б) новчаном казном од 15.000 до 30.000 динара и 12 казнених поена, в) казном затвора од најмање 15 дана или новчаном казном од 100.000 динара до 120.000 динара и 14 казнених поена.	2

54.	Возач возила које је упућено на мерења оптерећења, односно укупне масе, који не омогући та мерења, казниће се:	
B C D F	а) новчаном казном од 15.000 до 30.000 динара и 6 казнена поена, б) новчаном казном од 5.000 динара, в) казном затвора од најмање 15 дана или новчаном казном од 100.000 динара до 120.000 динара и 14 казнених поена.	2

51.	Власник возила који на захтев полицијског службеника не да податке о идентитету лица коме је дао возило на коришћење, казниће се:	
	а) новчаном казном од 5.000 динара, б) казном затвора од најмање 15 дана или новчаном казном од 100.000 динара до 120.000 динара и 14 казнених поена. в) новчаном казном од 15.000 до 30.000 динара.	

44.	Возач који управља возилом када је његовој возачкој дозволи истекао рок важења више од шест месеци, казниће се:	
	а) новчаном казном од 15.000 до 30.000 динара и 5 казнених поена, б) казном затвора од најмање 15 дана или новчаном казном од 100.000 динара до 120.000 динара и 14 казнених поена, в) новчаном казном од 10.000 динара.	2

58.	Возач теретног возила или скупа возила чија је највећа дозвољена маса већа од 3.500 kg, који након 4 сата и 30 минута управљања возилом не направи прописану паузу, казниће се:	
B C	а) новчаном казном од 5.000 динара, б) казном затвора од најмање 15 дана или новчаном казном од 100.000 динара до 120.000 динара и 14 казнених поена, в) новчаном казном од 15.000 до 30.000 динара и 2 казнена поена.	2

45.	Возач који у исто време користи две возачке дозволе издате од стране две државе, казниће се:	
	а) новчаном казном од 10.000 динара, б) новчаном казном од 15.000 до 30.000 динара, в) казном затвора од најмање 15 дана или новчаном казном од 100.000 динара до 120.000 динара и 14 казнених поена.	2

59.	Возач теретног возила или скупа возила чија је највећа дозвољена маса већа од 3.500 kg, који у раздобљу од две узастопне недеље има укупно време управљања дуже од прописаног, казниће се:	
B C	а) новчаном казном од 5.000 динара, б) казном затвора од најмање 15 дана или новчаном казном од 100.000 динара до 120.000 динара и 14 казнених поена, в) новчаном казном од 15.000 до 30.000 динара.	2

56.	Возач теретног возила или скупа возила чија је највећа дозвољена маса већа од 3.500 kg, који има дневно време управљања дуже од дозвољеног, казниће се:	
B C	а) новчаном казном од 15.000 до 30.000 динара и 2 казнена поена, б) новчаном казном од 5.000 динара, в) казном затвора од најмање 15 дана или новчаном казном од 100.000 динара до 120.000 динара и 14 казнених поена.	2



РЕПУБЛИКА СРБИЈА

МИНИСТАРСТВО УНУТРАШЊИХ ПОСЛОВА – УПРАВА САОБРАЋАЈНЕ ПОЛИЦИЈЕ





Забрањено је коришћење, односно повремено или стално умножавање базе података испитних питања или њених делова, било којим средствима и у било којој форми, у **комерцијалне сврхе**

62.	Возач теретног возила или скупа возила чија је највећа дозвољена маса већа од 3.500 kg, који не искористи дневни одмор на прописан начин, казниће се:	
B C	а) новчаном казном од 15.000 до 30.000 динара, б) новчаном казном од 5.000 динара, в) казном затвора од најмање 15 дана или новчаном казном од 100.000 динара до 120.000 динара и 14 казних поена.	2

64.	Возач теретног возила или скупа возила чија је највећа дозвољена маса већа од 3.500 kg, који благовремено не започне са коришћењем недељног одмора, казниће се	
B C	а) новчаном казном од 15.000 до 30.000 динара, б) новчаном казном од 5.000 динара, в) казном затвора од најмање 15 дана или новчаном казном од 100.000 динара до 120.000 динара и 14 казних поена.	2

69. Ако се у ситуацији приказаној на слици, након саобраћајног знака, крећете брзином од 130 km/h, бићете кажњени:



A B C D	а) новчаном казном од 6.000 до 20.000 динара и 3 казних поена, б) казном затвора од најмање 15 дана или новчаном казном од 100.000 динара до 120.000 динара и 14 казних поена, в) новчаном казном од 3.000 динара.	2
--	--	---

70. Возач возила који врши полукружно окретање возила у тунелу, казниће се:

а) б) в)	новчаном казном од 6.000 до 20.000 динара и 2 казних поена, новчаном казном од 3.000 динара, казном затвора од најмање 15 дана или новчаном казном од 100.000 динара до 120.000 динара и 14 казних поена.	2
----------------	---	---

65. Возач који се у ситуацији приказаној на слици, не заустави иза возила за организовани превоз деце, казниће се:



а) б) в)	новчаном казном од 6.000 до 20.000 динара и 2 казних поена, казном затвора од најмање 15 дана или новчаном казном од 100.000 динара до 120.000 динара и 14 казних поена, новчаном казном од 5.000 динара.	2
----------------	---	---

66. Возач који се укључује у саобраћај тако да се претходно није уверио да неће ометати остале учеснике у саобраћају и о томе није обавестио друге учеснике у саобраћају, казниће се:

а) б) в)	новчаном казном од 6.000 до 20.000 динара, новчаном казном од 5.000 динара, казном затвора од најмање 15 дана или новчаном казном од 100.000 динара до 120.000 динара и 14 казних поена.	2
----------------	--	---

67. Ако се у ситуацији приказаној на слици, након саобраћајног знака, крећете брзином од 80 km/h, бићете кажњени:



A B C D	а) новчаном казном од 6.000 до 20.000 динара и 4 казних поена, б) казном затвора од најмање 15 дана или новчаном казном од 100.000 динара до 120.000 динара и 14 казних поена, в) новчаном казном од 5.000 динара.	2
--	--	---

68. Возач возила коме су придодата три прикључна возила, казниће се:

B C D	а) новчаном казном од 3.000 динара, б) казном затвора од најмање 15 дана или новчаном казном од 100.000 динара до 120.000 динара и 14 казних поена, в) новчаном казном од 6.000 до 20.000 динара.	
----------------------------------	---	--



РЕПУБЛИКА СРБИЈА

МИНИСТАРСТВО УНУТРАШЊИХ ПОСЛОВА – УПРАВА САОБРАЋАЈНЕ ПОЛИЦИЈЕ





Забрањено је коришћење, односно повремено или стално умножавање базе података испитних питања или њених делова, било којим средствима и у било којој форми, у **комерцијалне сврхе**

71.	Возач који у ситуацији приказаној на слици врши претицање колоне возила, казниће се:	
	а) казном затвора од најмање 15 дана или новчаном казном од 100.000 динара до 120.000 динара и 14 казних поена, б) новчаном казном од 6.000 до 20.000 динара и 2 казних поена, в) новчаном казном од 5.000 динара.	2

72.	Возач возила који се зауставио на мосту, казниће се:	
	а) новчаном казном од 3.000 динара, б) казном затвора од најмање 15 дана или новчаном казном од 100.000 динара до 120.000 динара и 14 казних поена, в) новчаном казном од 6.000 до 20.000 динара и 2 казних поена.	2

81.	Возач који је зауставио возило на зауставној траци аутопута, казниће се:	
A	а) казном затвора од најмање 15 дана или новчаном казном од 100.000 динара до 120.000 динара и 14 казних поена, б) новчаном казном од 6.000 динара до 20.000 динара, в) новчаном казном од 3.000 динара.	2

82.	Возач који се возилом на аутопуту креће уназад, казниће се:	
B C D	а) казном затвора од најмање 15 дана или новчаном казном од 100.000 динара до 120.000 динара и 14 казних поена, б) новчаном казном од 6.000 динара до 20.000 динара и 3 казних поена, в) новчаном казном од 3.000 динара.	2

83.	Возач који на путу управља возилом које је оптерећено преко носивости уписане у саобраћајну дозволу за 10 %, казниће се:	
B C F	а) новчаном казном од 6.000 динара до 20.000 динара, б) казном затвора од најмање 15 дана или новчаном казном од 100.000 динара до 120.000 динара и 14 казних поена, в) новчаном казном од 5.000 динара.	2

73.	Возач који на путу који није пут са првенством пролаза претиче друго возило непосредно испред раскрснице, казниће се:	
	а) новчаном казном од 3.000 динара, б) новчаном казном од 6.000 до 20.000 динара и 2 казних поена, в) казном затвора од најмање 15 дана или новчаном казном од 100.000 динара до 120.000 динара и 14 казних поена.	2

74.	Возач возила који за време магле не укључи светла за осветљавање пута, казниће се:	
	а) новчаном казном од 3.000 динара, б) казном затвора од најмање 15 дана или новчаном казном од 100.000 динара до 120.000 динара и 14 казних поена, в) новчаном казном од 6.000 до 20.000 динара и 4 казних поена.	2

77.	Ако у ситуацији приказаној на слици, не пропустите пешака, бићете кажњени:	
	а) новчаном казном од 6.000 до 20.000 динара и 3 казних поена, б) казном затвора од најмање 15 дана или новчаном казном од 100.000 динара до 120.000 динара и 14 казних поена, в) новчаном казном од 5.000 динара.	2

85.	Возач који управља моторним возилом и превози више лица него што је означено у саобраћајној дозволи, казниће се:	
	а) казном затвора од најмање 15 дана или новчаном казном од 100.000 динара до 120.000 динара и 14 казних поена, б) новчаном казном од 6.000 динара до 20.000 динара и 3 казних поена, в) новчаном казном од 3.000 динара.	2



РЕПУБЛИКА СРБИЈА

МИНИСТАРСТВО УНУТРАШЊИХ ПОСЛОВА – УПРАВА САОБРАЋАЈНЕ ПОЛИЦИЈЕ





Забрањено је коришћење, односно повремено или стално умножавање базе података испитних питања или њених делова, било којим средствима и у било којој форми, у **комерцијалне сврхе**

84.	Возач који ванредни превоз не обавља у складу са условима који су одређени у дозволи за ванредни превоз, казниће се:	
B	а) новчаном казном од 6.000 динара до 20.000 динара,	2
C	б) казном затвора од најмање 15 дана или новчаном казном од 100.000 динара до 120.000 динара и 14 казних поена,	
D	в) новчаном казном од 5.000 динара.	

87.	Возач који након што прође додатни светлосни саобраћајни знак у облику зелене стрелице (условни знак), не пропусти пешака који прелази преко коловоза, казниће се:	
	а) казном затвора од најмање 15 дана или новчаном казном од 100.000 динара до 120.000 динара и 14 казних поена,	2
	б) новчаном казном од 6.000 динара до 20.000 динара и 2 казних поена,	
	в) новчаном казном од 3.000 динара.	

88.	Возач који након што прође додатни светлосни саобраћајни знак у облику зелене стрелице (условни знак), не пропусти возило које се креће по путу на који улази, казниће се:	
	а) казном затвора од најмање 15 дана или новчаном казном од 100.000 динара до 120.000 динара и 14 казних поена,	2
	б) новчаном казном од 6.000 динара до 20.000 динара и 2 казних поена,	
	в) новчаном казном од 3.000 динара.	

89.	Возач возила који се креће пешачком зоном, казниће се:	
	а) казном затвора од најмање 15 дана или новчаном казном од 100.000 динара до 120.000 динара и 14 казних поена,	2
	б) новчаном казном од 6.000 динара до 20.000 динара и 2 казних поена,	
	в) новчаном казном од 3.000 динара.	

90.	Возач који се у зони школе ван насеља, у 11:00 часова креће брзином од 85 km/h, казниће се:	
A	а) новчаном казном од 6.000 до 20.000 динара и 4 казних поена,	2
B	б) казном затвора од најмање 15 дана или новчаном казном од 100.000 динара до 120.000 динара и 14 казних поена,	
C	в) новчаном казном од 5.000 динара.	
D		

94.	Возач коме је издата пробна возачка дозвола, који управља возилом у периоду од 23:00 до 05:00 сати, казниће се:	
B	а) новчаном казном од 6.000 до 20.000 динара и 2 казних поена,	2
	б) казном затвора од најмање 15 дана или новчаном казном од 100.000 динара до 120.000 динара и 14 казних поена,	
	в) новчаном казном од 5.000 динара.	

91.	Возач који се затекне или наиђе на место саобраћајне незгоде у којој има повређених лица а не обавести полицију и/или службу хитне медицинске помоћи, казниће се:	
	а) новчаном казном од 6.000 до 20.000 динара,	2
	б) казном затвора од најмање 15 дана или новчаном казном од 100.000 динара до 120.000 динара и 14 казних поена,	
	в) новчаном казном од 5.000 динара.	

92.	Возач који након истека пробне возачке дозволе управља возилом у саобраћају пре него што му је издата возачка дозвола, казниће се:	
B	а) новчаном казном од 6.000 до 20.000 динара и 5 казних поена,	2
	б) казном затвора од најмање 15 дана или новчаном казном од 100.000 динара до 120.000 динара и 14 казних поена,	
	в) новчаном казном од 5.000 динара.	

93.	Возач који управља возилом када је његовој возачкој дозволи истекао рок важења највише шест месеци, казниће се:	
	а) новчаном казном од 6.000 до 20.000 динара и 2 казних поена,	2
	б) казном затвора од најмање 15 дана или новчаном казном од 100.000 динара до 120.000 динара и 14 казних поена,	
	в) новчаном казном од 5.000 динара.	

97.	Кандидат за возача који управља возилом током практичне обуке у стању средње алкохолисаности, казниће се:	
	а) новчаном казном од 6.000 до 20.000 динара и 6 казних поена,	2
	б) казном затвора од најмање 15 дана или новчаном казном од 100.000 динара до 120.000 динара и 14 казних поена,	
	в) новчаном казном од 3.000 динара.	

95.	Возач који након промене пребивалишта не пријави ту промену у прописаном року надлежном органу, казниће се:	
	а) новчаном казном од 6.000 до 20.000 динара,	2
	б) казном затвора од најмање 15 дана или новчаном казном од 100.000 динара до 120.000 динара и 14 казних поена,	
	в) новчаном казном од 5.000 динара.	

96.	Возач који управља возилом у стању средње алкохолисаности, казниће се:	
	а) новчаном казном од 6.000 до 20.000 динара и 6 казних поена,	2
	б) казном затвора од најмање 15 дана или новчаном казном од 100.000 динара до 120.000 динара и 14 казних поена,	
	в) новчаном казном од 3.000 динара.	



РЕПУБЛИКА СРБИЈА

МИНИСТАРСТВО УНУТРАШЊИХ ПОСЛОВА – УПРАВА САОБРАЋАЈНЕ ПОЛИЦИЈЕ





Забрањено је коришћење, односно повремено или стално умножавање базе података испитних питања или њених делова, било којим средствима и у било којој форми, у **комерцијалне сврхе**

100	Возач који управља возилом које је технички неисправно у погледу уређаја за заустављање, казниће се:	
	а) новчаном казном од 5.000 динара, б) новчаном казном од 6.000 до 20.000 динара, в) казном затвора од најмање 15 дана или новчаном казном од 100.000 динара до 120.000 динара и 14 казних поена.	2

106	Власник возила који у прописаном року не пријави промену било ког податка који се уписује у саобраћајну дозволу, казниће се:	
	а) новчаном казном од 6.000 до 20.000 динара, б) новчаном казном од 5.000 динара, в) казном затвора од најмање 15 дана или новчаном казном од 100.000 динара до 120.000 динара и 14 казних поена.	2

101	Власник неисправног возила у погледу уређаја за заустављање, којим у саобраћају на путу управља друго лице, казниће се:	
	а) новчаном казном од 5.000 динара, б) новчаном казном од 6.000 до 20.000 динара, в) казном затвора од најмање 15 дана или новчаном казном од 100.000 динара до 120.000 динара и 14 казних поена.	2

107	Власник возила којим је учињен прекршај у случају када возач који је управљао возилом приликом извршења прекршаја није идентификован:	
	а) одговоран је што је омогућио да се његовим возилом учини прекршај, б) није одговоран што је његовим возилом учињен прекршај, в) одговоран је за прекршај који је тим возилом учињен.	2

102	Возач преправљеног возила који учествује у саобраћају пре него што је надлежни орган утврдио да возило испуњава прописане услове, казниће се:	
	а) новчаном казном од 6.000 до 20.000 динара, б) новчаном казном од 5.000 динара, в) казном затвора од најмање 15 дана или новчаном казном од 100.000 динара до 120.000 динара и 14 казних поена.	2

108	Власник возила којим је учињен прекршај у случају када возач који је управљао возилом приликом извршења прекршаја није идентификован, казниће се:	
	а) новчаном казном од 6.000 до 20.000 динара, б) новчаном казном од 5.000 динара, в) казном затвора од најмање 15 дана или новчаном казном од 100.000 динара до 120.000 динара и 14 казних поена.	2

103	Возач који након истека рока од шест месеци од дана почетка важења регистрационе налепнице, управља возилом пре него што је на редовном шестомесечном техничком прегледу утврђено да је возило технички исправно, казниће се:	
	а) новчаном казном од 6.000 до 20.000 динара и 2 казних поена, б) новчаном казном од 5.000 динара, в) казном затвора од најмање 15 дана или новчаном казном од 100.000 динара до 120.000 динара и 14 казних поена.	2

110	Возач који у насељу не омогући укључивање у саобраћај аутобусу који се прописно укључује у саобраћај са стајалишта, казниће се:	
	а) новчаном казном од 6.000 до 20.000 динара, б) новчаном казном од 5.000 динара, в) казном затвора од најмање 15 дана или новчаном казном од 100.000 динара до 120.000 динара и 14 казних поена.	2

104	Возач који управља возилом, након истека рока важења регистрационе налепнице, казниће се:	
	а) новчаном казном од 6.000 до 20.000 динара и 2 казних поена, б) новчаном казном од 5.000 динара, в) казном затвора од најмање 15 дана или новчаном казном од 100.000 динара до 120.000 динара и 14 казних поена.	2

111	Возач који за време вожње користи мобилни телефон на непрописан начин, казниће се:	
	а) новчаном казном од 6.000 до 20.000 динара, б) новчаном казном од 5.000 динара, в) казном затвора од најмање 15 дана или новчаном казном од 100.000 динара до 120.000 динара и 14 казних поена.	2

105	Власник регистрованог возила за које није поднет захтев за издавање нове регистрационе налепнице, који у прописаном року не врати регистарске таблице органу који је исте издао, казниће се:	
A	а) новчаном казном од 6.000 до 20.000 динара, B б) новчаном казном од 5.000 динара, C в) казном затвора од најмање 15 дана или D новчаном казном од 100.000 динара до 120.000 динара и 14 казних поена.	2

112	Возач возила у којем су уграђени сигурносни појасеви, који у саобраћају на путу не користи сигурносни појас на прописан начин, казниће се:	
B	а) новчаном казном од 5.000 динара, C б) новчаном казном од 6.000 до 20.000 динара, D в) казном затвора од најмање 15 дана или F новчаном казном од 100.000 динара до 120.000 динара и 14 казних поена.	2



РЕПУБЛИКА СРБИЈА

МИНИСТАРСТВО УНУТРАШЊИХ ПОСЛОВА – УПРАВА САОБРАЋАЈНЕ ПОЛИЦИЈЕ





Забрањено је коришћење, односно повремено или стално умножавање базе података испитних питања или њених делова, било којим средствима и у било којој форми, у **комерцијалне сврхе**

113	Возач који у моторном возилу на предњем седишту превози дете млађе од 12 година, казниће се:	
B	а) новчаном казном од 6.000 до 20.000 динара,	2
C	б) новчаном казном од 5.000 динара,	
D	в) казном затвора од најмање 15 дана или новчаном казном од 100.000 динара до 120.000 динара и 14 казнених поена.	

114	Возач који у моторном возилу превози дете до три године старости ван безбедносног седишта, односно корпе, казниће се:	
	а) новчаном казном од 6.000 до 20.000 динара,	2
	б) новчаном казном од 5.000 динара,	
	в) казном затвора од најмање 15 дана или новчаном казном од 100.000 динара до 120.000 динара и 14 казнених поена.	

115	Возач који се креће саобраћајном траком којом није дозвољено кретање оне врсте возила којим управља, казниће се:	
	а) новчаном казном од 5.000 динара,	2
	б) казном затвора од најмање 15 дана или новчаном казном од 100.000 динара до 120.000 динара и 14 казнених поена,	
	в) новчаном казном од 15.000 до 30.000 динара.	

116	Возач који се у насељу креће брзином која је од 11 km/h до 20 km/h већа од дозвољене, казниће се:	
	а) новчаном казном од 5.000 динара,	2
	б) казном затвора од најмање 15 дана или новчаном казном од 100.000 динара до 120.000 динара и 14 казнених поена,	
	в) новчаном казном од 15.000 до 30.000 динара.	

117 Ако се у ситуацији приказаној на слици, након саобраћајног знака, крећете брзином од 110 km/h, бићете кажњени:



A	а) новчаном казном од 6.000 до 20.000 динара и 3 казнена поена,	2
B	б) новчаном казном од 30.000 до 50.000 динара,	
D	в) новчаном казном од 5.000 динара.	

118	Возач који у ситуацији када му је семафором дозвољен пролаз, уђе у раскрсницу тако да се због густине саобраћаја заустави у раскрсници и тиме заустави саобраћај, казниће се:	
	а) новчаном казном од 5.000 динара,	2
	б) казном затвора од најмање 15 дана или новчаном казном од 100.000 динара до 120.000 динара и 14 казнених поена,	
	в) новчаном казном од 6.000 до 20.000 динара.	

119	Возач који претиче друго возило преко прелаза пута преко железничке пруге, казниће се:	
	а) новчаном казном од 5.000 динара,	2
	б) казном затвора од најмање 15 дана или новчаном казном од 100.000 динара до 120.000 динара и 14 казнених поена,	
	в) новчаном казном од 6.000 до 20.000 динара.	

120	Возач који на јавном путу на коме се саобраћај одвија у оба смера паркира возило непосредно уз леву ивицу коловоза, казниће се:	
	а) новчаном казном од 30.000 динара до 50.000 динара,	2
	б) новчаном казном од 6.000 до 20.000 динара,	
	в) новчаном казном од 5.000 динара.	

121	Возач који паркира возило на пешачком прелазу, казниће се:	
	а) новчаном казном од 30.000 динара до 50.000 динара,	2
	б) новчаном казном од 6.000 до 20.000 динара,	
	в) новчаном казном од 5.000 динара.	

122	Возач који паркира возило на раскрсници, казниће се:	
	а) новчаном казном од 30.000 динара до 50.000 динара,	2
	б) новчаном казном од 6.000 до 20.000 динара,	
	в) новчаном казном од 5.000 динара.	

123	Возач који паркира возило на делу пута где је ширина слободног пролаза од паркираног возила до неиспрекидане уздужне линије на коловозу, мања од три метра, казниће се:	
	а) новчаном казном од 30.000 динара до 50.000 динара,	2
	б) новчаном казном од 5.000 динара,	
	в) новчаном казном од 6.000 до 20.000 динара.	

124	Возач који паркира возило на стајалишту за возила јавног саобраћаја, казниће се:	
	а) новчаном казном од 30.000 динара до 50.000 динара,	2
	б) новчаном казном од 6.000 до 20.000 динара,	
	в) новчаном казном од 5.000 динара.	



РЕПУБЛИКА СРБИЈА

МИНИСТАРСТВО УНУТРАШЊИХ ПОСЛОВА – УПРАВА САОБРАЋАЈНЕ ПОЛИЦИЈЕ



C Забрањено је коришћење, односно повремено или стално умножавање базе података испитних питања или њених делова, било којим средствима и у било којој форми, у **комерцијалне сврхе**

125	Возач који паркира возило на месту на коме онемогућава излазак неком већ паркираном возилу, казниће се:	
	а) новчаном казном од 30.000 динара до 50.000 динара, б) новчаном казном од 6.000 до 20.000 динара, в) новчаном казном од 5.000 динара.	2

126	Возач који паркира возило на тротоару, када то није дозвољено саобраћајном сигнализацијом, казниће се:	
	а) новчаном казном од 5.000 динара, б) новчаном казном од 30.000 динара до 50.000 динара, в) новчаном казном од 6.000 до 20.000 динара.	2

127	Возач који не означи сигурносним троуглом возило које је заустављено на коловозу на таквом месту да возачи возила која се крећу истим смером не могу благовремено да га уоче, казниће се:	
B C D F	а) новчаном казном од 5.000 динара, б) новчаном казном од 30.000 динара до 50.000 динара, в) новчаном казном од 6.000 до 20.000 динара.	2

129	Возач који управља теретним возилом у саобраћају на путу које вуче прикључно возило за трактором, казниће се:	
B C	а) новчаном казном од 30.000 динара до 50.000 динара, б) новчаном казном од 6.000 до 20.000 динара, в) новчаном казном од 5.000 динара.	2

130	Возач возила које вуче неисправно возило, када не укључи све показиваче правца на вучном возилу, казниће се:	
B C D F	а) новчаном казном од 6.000 до 20.000 динара, б) новчаном казном од 5.000 динара, в) новчаном казном од 10.000 динара.	2

131	Возач возила које вуче неисправно возило, када не постави на оба возила сигурносни троугао на прописан начин, казниће се:	
B C D F	а) новчаном казном од 6.000 до 20.000 динара, б) новчаном казном од 5.000 динара, в) новчаном казном од 15.000 до 30.000 динара.	2

132	Возач возила који користи дуга светла на путу са осветљеном уличном расветом, казниће се:	
	а) новчаном казном од 5.000 динара, б) новчаном казном од 6.000 до 20.000 динара, в) новчаном казном од 15.000 до 30.000 динара.	2

133	Возач возила који за време магле користи дуга светла, казниће се:	
	а) новчаном казном од 5.000 динара, б) новчаном казном од 6.000 до 20.000 динара, в) новчаном казном од 15.000 до 30.000 динара.	2

135	Возач који када скреће на бочни пут на чијем улазу не постоји пешачки прелаз не пропусти пешака који ступа на коловоз, казниће се:	
	а) новчаном казном од 6.000 до 20.000 динара, б) новчаном казном од 15.000 до 30.000 динара, в) новчаном казном од 5.000 динара.	2

136	Возач који на аутопуту не користи крајњу десну саобраћајну траку, осим приликом претицања, казниће се:	
A B C D	а) новчаном казном од 6.000 до 20.000 динара, б) новчаном казном од 15.000 до 30.000 динара, в) новчаном казном од 5.000 динара.	2

138	Возач који управља теретним возилом на којем терет у расутом стању није прекривен, казниће се:	
B C	а) новчаном казном од 6.000 до 20.000 динара, б) новчаном казном од 5.000 динара, в) новчаном казном од 15.000 до 30.000 динара.	2

139	Возач возила на којем терет прелази најудаљенију тачку на задњој страни возила, није означен, казниће се:	
B C D F	а) новчаном казном од 6.000 до 20.000 динара, б) новчаном казном од 5.000 динара, в) новчаном казном од 15.000 до 30.000 динара.	2

141	Возач који поступи супротно постављеном саобраћајном знаку, казниће се:	
		
	а) новчаном казном од 6.000 динара до 20.000 динара, б) новчаном казном од 5.000 динара, в) казном затвора од најмање 15 дана или новчаном казном од 100.000 динара до 120.000 динара и 14 казњених поена.	2

144	Кандидат за возача који за време практичне обуке нема код себе доказ о здравственој способности за возача, казниће се:	
	а) новчаном казном од 6.000 до 20.000 динара, б) новчаном казном од 5.000 динара, в) новчаном казном од 15.000 до 30.000 динара.	2



Забрањено је коришћење, односно повремено или стално умножавање базе података испитних питања или њених делова, било којим средствима и у било којој форми, у **комерцијалне сврхе**

147	Возач који се креће уназад возилом супротном страном коловоза у односу на смер којим се до тада кретао, казниће се:	
B	а) новчаном казном од 10.000 динара,	2
C	б) новчаном казном од 15.000 до 30.000 динара,	
D	в) новчаном казном од 3.000 динара.	
F		

148	Ако се у ситуацији приказаној на слици, након саобраћајног знака, крећете брзином од 57 km/h, бићете кажњени:	
-----	---	--



	а) новчаном казном од 6.000 до 20.000 динара и 4 казних поена,	2
	б) казном затвора од најмање 15 дана или новчаном казном од 100.000 динара до 120.000 динара и 14 казних поена,	
	в) новчаном казном од 3.000 динара.	

149	Ако се у ситуацији приказаној на слици, након саобраћајног знака, крећете брзином од 95 km/h, бићете кажњени:	
-----	---	--



A	а) новчаном казном од 15.000 до 30.000 динара и 6 казних поена,	2
B	б) новчаном казном од 3.000 динара,	
D	в) новчаном казном од 30.000 до 50.000 динара и 10 казних поена.	

150	Возач који не помери своје возило ка десној ивици коловоза, док га друго возило претиче, казниће се:	
A	а) новчаном казном од 10.000 динара,	2
B	б) новчаном казном од 15.000 до 30.000 динара,	
D	в) новчаном казном од 3.000 динара.	

151	Возач који не укључи све показиваче правца када се на јавном путу креће уназад, казниће се:	
B	а) новчаном казном од 3.000 динара,	2
C	б) новчаном казном од 10.000 динара,	
D	в) новчаном казном од 15.000 до 30.000 динара.	
F		

152	Возач који приликом паркирања заузме два паркинг места, казниће се:	
	а) новчаном казном од 6.000 до 20.000 динара,	2
	б) новчаном казном од 3.000 динара,	
	в) новчаном казном од 15.000 до 30.000 динара.	

153	Возач који дању у саобраћају на путу, не укључи кратка, односно дневна светла, казниће се:	
	а) новчаном казном од 6.000 до 20.000 динара,	2
	б) новчаном казном од 3.000 динара,	
	в) новчаном казном од 15.000 до 30.000 динара.	

145	Возач који управља возилом којем је неисправан показивач правца, казниће се:	
	а) новчаном казном од 5.000 динара,	2
	б) новчаном казном од 6.000 до 20.000 динара,	
	в) новчаном казном од 15.000 до 30.000 динара.	

155	Возач који се у ситуацији приказаној на слици (застој саобраћаја), није оставио слободан простор за пролаз возила под пратњом и возила са правом првенством пролаза, казниће се:	
-----	--	--



	а) новчаном казном од 6.000 до 20.000 динара и 4 казних поена,	2
	б) казном затвора од најмање 15 дана или новчаном казном од 100.000 динара до 120.000 динара и 14 казних поена,	
	в) новчаном казном од 3.000 динара.	

156	Возач који у саобраћају на путу не поседује зимску опрему, казниће се:	
B	а) новчаном казном од 3.000 динара,	2
C	б) новчаном казном од 6.000 до 20.000 динара,	
D	в) новчаном казном од 15.000 до 30.000 динара.	

157	Возач који не искључи мотор када возило стоји дуже од три минута, казниће се:	
	а) новчаном казном од 6.000 до 20.000 динара,	2
	б) новчаном казном од 3.000 динара,	
	в) новчаном казном од 15.000 до 30.000 динара.	

158	Возач са пробном возачком дозволом, који управља возилом које није означено посебном ознаком „П“, казниће се:	
B	а) новчаном казном од 6.000 до 20.000 динара,	2
	б) новчаном казном од 3.000 динара,	
	в) новчаном казном од 15.000 до 30.000 динара.	



РЕПУБЛИКА СРБИЈА

МИНИСТАРСТВО УНУТРАШЊИХ ПОСЛОВА – УПРАВА САОБРАЋАЈНЕ ПОЛИЦИЈЕ





Забрањено је коришћење, односно повремено или стално умножавање базе података испитних питања или њених делова, било којим средствима и у било којој форми, у **комерцијалне сврхе**

159	Возач који код себе нема возачку дозволу када управља возилом, казниће се:	
	а) новчаном казном од 6.000 до 20.000 динара, б) новчаном казном од 3.000 динара, в) новчаном казном од 15.000 до 30.000 динара.	2

160	Ако се у ситуацији приказаној на слици, након саобраћајног знака, крећете брзином од 80 km/h, заштитна мера забране управљања моторним возилом Вам се:	
-----	--	--



A	а) изриче,	
B	б) не изриче.	
C		
D		2

161	Ако се у ситуацији приказаној на слици, након саобраћајног знака, крећете брзином од 60 km/h, заштитна мера забране управљања моторним возилом Вам се:	
-----	--	--



	а) изриче,	
	б) не изриче.	2

162	Ако се у ситуацији приказаној на слици, након саобраћајног знака, крећете брзином од 140 km/h, заштитна мера забране управљања моторним возилом Вам се:	
-----	---	--



A	а) изриче,	
B	б) не изриче.	
C		
D		2

163	Ако се у ситуацији приказаној на слици, након саобраћајног знака, крећете брзином од 110 km/h, заштитна мера забране управљања моторним возилом Вам се:	
-----	---	--



A	а) изриче,	
B	б) не изриче.	
C		
D		2

164	Возачу који управља возилом под дејством алкохола чија је садржина више од 0,50 mg/ml до 1,20 mg/ml, заштитна мера забране управљања моторним возилом:	
-----	--	--

	а) изриче се,	
	б) не изриче се.	2

165	Возачу који управља возилом под дејством алкохола чија је садржина више од 0,30 mg/ml до 0,50 mg/ml, заштитна мера забране управљања моторним возилом:	
-----	--	--

	а) изриче се,	
	б) не изриче се.	2

166	Возачу возила који претиче возило испред њега на истој саобраћајној траци чији је возач дао знак за претицање, заштитна мера забране управљања моторним возилом:	
-----	--	--

	а) изриче се,	
	б) не изриче се.	2

167	Возачу који претиче возило на начин да прелази возилом преко неискриване уздужне линије при чему користи саобраћајну траку намењену за кретање возила из супротног смера, заштитна мера забране управљања моторним возилом:	
-----	---	--

	а) изриче се,	
	б) не изриче се.	2

168	Возачу који прође светлосни саобраћајни знак када му је тим знаком забрањен пролаз, заштитна мера забране управљања моторним возилом:	
-----	---	--

	а) изриче се,	
	б) не изриче се.	2



РЕПУБЛИКА СРБИЈА

МИНИСТАРСТВО УНУТРАШЊИХ ПОСЛОВА – УПРАВА САОБРАЋАЈНЕ ПОЛИЦИЈЕ





Забрањено је коришћење, односно повремено или стално умножавање базе података испитних питања или њених делова, било којим средствима и у било којој форми, у **комерцијалне сврхе**

169	Возачу који поступи супротно постављеном саобраћајном знаку, заштитна мера забране управљања моторним возилом:		
			
	а) изриче се, б) не изриче се.		2

170	Возачу који не пропусти возило које се креће по путу на који улази након што прође додатни светлосни саобраћајни знак у облику зелене стрелице (условни знак), заштитна мера забране управљања моторним возилом:		
	а) изриче се, б) не изриче се.		2

171	Возачу који паркира возило на пешачком прелазу, заштитна мера забране управљања моторним возилом:		
	а) изриче се, б) не изриче се.		2

172	Возачу који управља возилом које није уписано у јединствени регистар возила, заштитна мера забране управљања моторним возилом:		
	а) изриче се, б) не изриче се.		2

173	Возачу који управља возилом када је његовој возачкој дозволи истекао рок важења више од шест месеци, заштитна мера забране управљања моторним возилом:		
	а) изриче се, б) не изриче се.		2

174	Возач који је затечен да управља возилом у саобраћају за време трајања искључења возила из саобраћаја, заштитна мера забране управљања моторним возилом:		
	а) изриче се, б) не изриче се.		2

175	Возачу, који након истека рока од шест месеци од дана почетка важења регистрационе налепнице управља возилом пре него што је на редовном шестомесечном техничком прегледу утврђено да је возило технички исправно, заштитна мера забране управљања моторним возилом:		
	а) не изриче се, б) изриче се.		2

146	Возач који управља возилом у саобраћају на путу у којем се не налази одговарајући светлоодбојни прслук, казниће се:		
B	а) новчаном казном од 3.000 динара,		
C	б) новчаном казном од 6.000 до 20.000 динара,		
D	в) новчаном казном од 15.000 до 30.000 динара.		2

177	Возач који ноћу управља возилом на неосветљеном делу пута, а нема укључено ниједно светло за осветљавање пута нити предње позиционо светло, заштитна мера забране управљања моторним возилом:		
	а) изриче се, б) не изриче се.		2

178	Возачу који држи у крилу дете млађе од 12 година, заштитна мера забране управљања моторним возилом:		
	а) изриче се, б) не изриче се.		2

179	Возачу коме возило са теретом премашује највеће дозвољене димензије за поједине врсте возила (дужина, ширина и висина), заштитна мера забране управљања моторним возилом:		
	а) изриче се, б) не изриче се.		2

180	Возачу који се не заустави пред прелазом пута преко железничке пруге када им је светлосним саобраћајним знаком којим се најављује приближавање воза прелазу пута преко железничке пруге у истом нивоу без браника забрањен пролаз, заштитна мера забране управљања моторним возилом:		
	а) изриче се, б) не изриче се.		2

181	Возачу који управља возилом након истека рока важења регистрационе налепнице, заштитна мера забране управљања моторним возилом:		
A	а) изриче се,		
B	б) не изриче се.		
C			
D			2

182. Возачу који управља возилом када је његовој возачкој дозволи истекао рок важења највише шест месеци, заштитна мера забране управљања моторним возилом:

- а) изриче се,
б) не изриче се.

2



РЕПУБЛИКА СРБИЈА

МИНИСТАРСТВО УНУТРАШЊИХ ПОСЛОВА – УПРАВА САОБРАЋАЈНЕ ПОЛИЦИЈЕ

